


Дата: \_\_\_\_\_ Класс: \_\_\_\_\_ Имя: \_\_\_\_\_

## 1 класс, домашние задания по математике к учебнику Моро, за 1, 2, 3 и 4 четверти

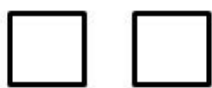
Темы: "Числа: 0, 1, 2, 3, 4, 5, 6, 7, 8, 9, 10", "Сравнение", "Сложение и вычитание",  
"Решение текстовых задач", "Числа от 10 до 20",  
"Табличное сложение и вычитание"

Домашние задания по учебнику Моро М. И. для 1 класса, 1 четверть, на темы: "Сравнение, левее,  
правее, выше, ниже"

1. Каких фигур на рисунке больше: треугольников или квадратов? Закрась треугольники в синий цвет.



2. Каких фигур на рисунке больше: овалов или квадратов? Закрась овалы в красный цвет.



3. Сколько яблок на рисунке? Сколько груш на рисунке? Сколько всего фруктов на рисунке?



4. Что на этом рисунке справа: морковки или помидор?



5. Что на этом рисунке слева: малина или вишня?



Дата: \_\_\_\_\_ Класс: \_\_\_\_\_ Имя: \_\_\_\_\_

**Домашние задания по учебнику Моро М. И. для 1 класса, 1 четверть, на темы: "Числа 1, 2, 3, 4, 5", "Сложение". "Вычитание". "Сравнение: больше, меньше, равно"**

1. Реши примеры.

$2 + 1 =$        $1 + 2 =$        $1 + 1 =$

$3 - 1 =$        $2 - 1 =$        $3 - 2 =$

2. Поставь знак: больше, меньше или равно.

$1 \dots 3$        $3 \dots 2$        $2 \dots 1$


$3 \dots 3$        $3 \dots 1$        $1 \dots 2$

3. Сколько треугольников на рисунке? Запиши ответ красным цветом.



Ответ: \_\_\_\_\_

4. Сколько квадратов на рисунке? Запиши ответ синим цветом.



Ответ: \_\_\_\_\_

5. Нарисуй столько кругов, чтобы их оказалось на две штуки больше, чем яблок.



6. Нарисуй столько овалов, чтобы их оказалось на две штуки меньше, чем помидор.



Дата: \_\_\_\_\_ Класс: \_\_\_\_\_ Имя: \_\_\_\_\_

7. Реши примеры.

$2 + 2 =$

$1 + 3 =$

$1 + 4 =$

$5 - 2 =$

$4 - 3 =$

$3 - 1 =$

8. Поставь знак: больше, меньше или равно.

$5 \dots 3$

$4 \dots 5$

$2 \dots 3$

$4 \dots 3$

$5 \dots 1$

$3 \dots 2$

Дата: \_\_\_\_\_ Класс: \_\_\_\_\_ Имя: \_\_\_\_\_

## Домашние задания по учебнику Моро М. И. для 1 класса, 2 четверть

1. Реши задачу.

В ведре лежало 7 морковок. Из 3 морковок сделали салат. Сколько морковок осталось лежать в ведре?

2. Реши задачу.

На полянке гуляли 5 зайчат, к ним присоединились ещё 2 зайчонка. Сколько зайчат на полянке?

3. Реши примеры.

$2 + 5 =$

$2 + 3 =$

$4 + 3 =$

$6 - 5 =$

$7 - 6 =$

$5 - 1 =$

4. Поставь знак: больше, меньше или равно.

$6 \dots 7$

$2 \dots 4$

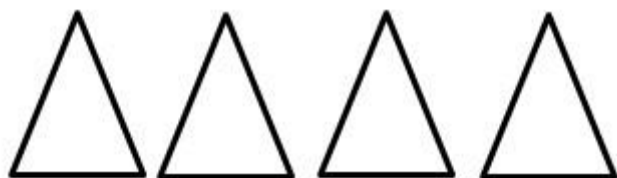
$6 \dots 4$

$3 \dots 2$

$1 \dots 7$

$4 \dots 5$

5. Нарисуй столько квадратов, что бы их оказалось на две штуки больше, чем треугольников.



6. Реши задачу.

У Оли есть 3 магнитика, у Пети есть 4 магнитика, а у Саши – 3 магнитика. Сколько всего магнитиков у ребят?

7. Реши примеры.

$6 + 4 =$

$5 + 1 =$

$1 + 7 =$

$8 - 6 =$

$9 - 3 =$

$7 - 2 =$

Дата: \_\_\_\_\_ Класс: \_\_\_\_\_ Имя: \_\_\_\_\_

8. Поставь знак: больше, меньше или равно.

$7 \dots 1$

$9 \dots 9$

$2 \dots 3$

$4 \dots 4$

$8 \dots 6$

$9 \dots 10$

9. Нарисуй 2 квадрата и 8 кругов.

10. Реши задачу.

У Саши было 100 рублей. На 30 рублей он купил конфеты. Сколько рублей осталось у Саши?

Дата: \_\_\_\_\_ Класс: \_\_\_\_\_ Имя: \_\_\_\_\_

## Домашние задания по учебнику Моро М. И. для 1 класса, 3 четверть

1. Реши примеры.

$7 + 1 =$                        $6 + 3 =$

$5 + 1 =$                        $4 + 2 =$

$7 + 3 =$                        $6 + 4 =$

$5 + 4 =$                        $4 + 3 =$

2. Реши примеры.

$5 - 2 =$                        $6 - 5 =$

$7 - 1 =$                        $9 - 2 =$

$5 - 4 =$                        $6 - 3 =$

$7 - 4 =$                        $9 - 3 =$

3. Реши примеры.

$4 - 1 + 3 =$                        $6 - 2 + 0 =$

$6 - 3 + 2 =$                        $8 - 2 + 1 =$

$10 - 2 + 1 =$                        $10 - 1 + 3 =$

$8 - 3 + 1 =$                        $9 - 1 + 2 =$

$4 - 4 + 3 =$                        $6 - 4 + 0 =$

$6 - 3 + 4 =$                        $8 - 3 + 4 =$

4. Вместо многоточия ... вставь число.

$9 - \dots = 7$

$\dots - 3 = 4$

Дата: \_\_\_\_\_ Класс: \_\_\_\_\_ Имя: \_\_\_\_\_

$$\dots - 1 = 9$$

$$9 - \dots = 5$$

$$6 + \dots = 7$$

$$\dots + 3 = 8$$

$$\dots + 2 = 9$$

$$3 + \dots = 10$$

$$8 - 1 + \dots = 10$$

$$3 - \dots + 3 = 6$$

$$6 - \dots + 1 = 7$$

$$\dots - 3 + 1 = 4$$

5. Реши задачу.

В первом классе учатся 9 мальчиков. Во втором классе мальчиков учатся на 1 человека меньше, чем в первом классе. Сколько мальчиков учатся во втором классе?

6. Реши задачу.

Ведро свёклы весит 10 кг. А ведро огурцов весит на 2 кг меньше, чем ведро свёклы. Сколько весит ведро огурцов?

7. Реши задачу.

У Вовы в пенале лежит 9 карандашей, а у Коли в пенале лежит 7 карандашей. У кого карандашей больше: у Вовы или у Коли?

8. Реши задачу.

В школьном огороде посадили 9 грядок с помидорами и 6 грядок с огурцами. На сколько грядок с огурцами меньше, чем грядок с помидорами?

9. Реши задачу.

У Коли есть 4 ручки, у Саши есть 3 ручки, у Маши есть 2 ручки. Сколько всего ручек у ребят?

10. Реши задачу.

В саду цвело 10 растений. За первую неделю отцвели 4 растения, а за вторую неделю – ещё 3 растения. Сколько растений цветет в саду?

11. Реши геометрические задачи.

11.1. Замерь длину заданного отрезка в см. Начерти отрезок, длина которого на 2 см длиннее заданного.



11.2. Измерь длину каждой стороны треугольника и запиши полученные результаты.



Дата: \_\_\_\_\_ Класс: \_\_\_\_\_ Имя: \_\_\_\_\_

## Домашние задания по математике к учебнику Моро М.И. для 1 класса, 4 четверть

1. Реши примеры.

$9 - 3 =$

$3 - 2 =$

$4 - 1 =$

$3 + 3 =$

$3 + 2 =$

$4 + 6 =$

$19 - 8 =$

$13 - 8 =$

$10 - 9 =$

$16 + 3 =$

$3 + 12 =$

$14 + 6 =$

2. Реши задачу.

В математическом кружке занимаются 10 ребят. 7 из них – городские, а остальные – деревенские ребята. Сколько деревенских ребят занимается в кружке?

3. Реши задачу.

На ветке сидело 3 вороны. К ним присоединилось ещё 7 ворон. Сколько ворон сидит на ветке?

4. Реши задачу:

У Толика есть 16 значков. У Славика – на 2 значка больше. Сколько значков у Славика?

5. Реши задачу.

В корзине лежало 18 огурцов. 12 огурцов взяли для засолки. Сколько огурцов осталось в корзине?

6. Вставь вместо многоточия ... число.

$8 - 3 + \dots = 17$

$7 - \dots + 3 = 6$

$6 - \dots + 1 = 7$

$\dots - 3 + 1 = 14$

7. Реши примеры:

$13 - 12 + 1 =$

$15 - 11 + 3 =$

$18 - 13 + 1 =$

$19 - 11 + 2 =$

8. Реши задачу.

У Тани было 8 шариков, на праздник мама подарила ей 3 шарика, а папа подарил 8 шариков. Сколько шариков стало у Тани?

9. Реши задачу.

У Коли было 18 листов для рисования. За первую неделю он использовал 4 листа, а на следующей неделе – ещё 8 листов. Сколько листов у него осталось после второй недели?