

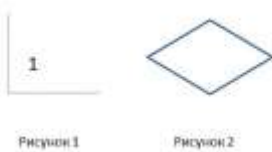
Город /населённый пункт _____ школа № _____ класс _____
 Фамилия и имя ученика _____ дата _____

Вариант I**1. Реши примеры на сложение и напиши ответы рядом с примерами:**

$35 + 7 =$	$73 + 12 =$	$63 + 13 =$
$67 + 6 =$	$13 + 56 =$	$18 + 68 =$

2. Реши примеры на вычитание и напиши ответы рядом с примерами:

$60 - 8 =$	$37 - 24 =$	$77 - 45 =$
$50 - 3 =$	$68 - 49 =$	$34 - 23 =$

3. Внимательно посмотри на рисунки 1 и 2:

Какой вид угла на 1 рисунке? Подчеркни правильный ответ: тупой, прямой, острый.

Сколько углов у многоугольника на рисунке 2? Отметь правильный ответ: 3 4 5 6

4. Реши задачу и выбери правильный ответ:

Вчера мастер сделал 34 детали, а сегодня сделал ещё 18. Сколько деталей всего сделал мастер?

44 52 50 56

5. Реши задачу и выбери правильный ответ.

В корзине было 26 яблок. Для компота взяли 12 яблок. Сколько яблок осталось?

26 10 14 16

6. Реши уравнения и запиши правильный ответ ниже:

$55 - X = 36$	$Y + 29 = 72$	$X - 16 = 39$	$30 + Y = 49$
$X =$	$Y =$	$X =$	$Y =$

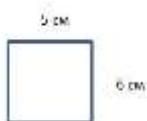
7. Реши примеры на умножение и деление и запиши ответ рядом с примером:

$5 * 0 =$	$6 : 2 =$
$5 * 1 =$	$6 : 3 =$
$5 * 2 =$	$6 : 2 =$

8. Сравни числа или длины и поставь знаки "<", ">" или "=" вместо ...

4 м 16 см ... 416 см

6 дм 40 см ... 64 см

 $3 * 8 ... 7 + 10$ **9. Вычисли периметр прямоугольника и подчеркни правильный ответ**

20

22

24

26

Сумма баллов _____ оценка _____/_____

Учитель (ФИО) _____ дата _____ подпись _____

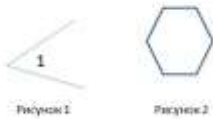
Город /населённый пункт _____ школа № _____ класс _____
 Фамилия и имя ученика _____ дата _____

Вариант II**1. Реши примеры на сложение и напиши ответы рядом с примерами:**

$31 + 7 =$	$74 + 15 =$	$45 + 33 =$
$67 + 6 =$	$17 + 53 =$	$18 + 73 =$

2. Реши примеры на вычитание и напиши ответы рядом с примерами:

$40 - 8 =$	$39 - 24 =$	$78 - 43 =$
$90 - 3 =$	$68 - 46 =$	$67 - 23 =$

3. Внимательно посмотри на рисунки 1 и 2:

Какой вид угла на 1 рисунке? Подчеркни правильный ответ: тупой, прямой, острый.
 Сколько углов у многоугольника, отметь правильный ответ: 3 4 5 6

4. Реши задачу и выбери правильный ответ.

Третий класс собрал 56 кг макулатуры, а второй класс на 24 кг меньше. Сколько кг макулатуры собрал 2 класс?

30 56 33 32

5. Реши задачу и выбери правильный ответ.

На складе лежало 48 ящиков, привезли ещё 26. Сколько ящиков всего на складе?

74 70 75 76

6. Реши уравнения, и запиши правильный ответ ниже:

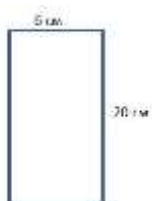
$40 - X = 32$	$Y + 34 = 78$	$X - 28 = 35$	$12 + Y = 44$
X =	Y =	X =	Y =

7. Реши примеры на умножение и деление и запиши ответ рядом с примером:

$7 * 0 =$	$8 : 2 =$
$7 * 1 =$	$9 : 3 =$
$7 * 2 =$	$8 : 2 =$

8. Сравни числа или длины и поставь знаки "<", ">" или "=" вместо ...

6 км 6 м ... 606 м 3 дм 41 мм ... 34 см $2 * 4 ... 16 - 10$

9. Вычисли периметр прямоугольника и подчеркни правильный ответ

50 58 55 52

Сумма баллов _____ оценка _____ / _____ /

Учитель (ФИО) _____ дата _____ подпись _____

Город /населённый пункт _____ школа № _____ класс _____
 Фамилия и имя ученика _____ дата _____

Вариант III

1. Реши примеры на сложение и напиши ответы рядом с примерами:

$34 + 7 =$	$76 + 18 =$	$67 + 20 =$
$65 + 8 =$	$14 + 36 =$	$19 + 57 =$

2. Реши примеры на вычитание и напиши ответы рядом с примерами:

$20 - 8 =$	$38 - 33 =$	$74 - 16 =$
$50 - 5 =$	$69 - 36 =$	$89 - 35 =$

3. Внимательно посмотри на рисунки 1 и 2:



Какой вид угла на 1 рисунке? Подчеркни правильный ответ: тупой, прямой, острый.

Сколько углов у многоугольника, отметь правильный ответ: 3 4 5 6

4. Реши задачу и выбери правильный ответ:

В гараже стоят 47 машин. Из них 31 машина исправных. Сколько машин в гараже не исправных?

31	12	15	16
----	----	----	----

5. Реши задачу и выбери правильный ответ.

У Васи 38 марок. А у Коли на 22 больше. Сколько марок у Коли?

22	58	60	62
----	----	----	----

6. Реши уравнения, и запиши правильный ответ ниже:

$53 - X = 22$	$Y + 59 = 70$	$X - 12 = 49$	$33 + Y = 48$
$X =$	$Y =$	$Y =$	$Y =$


7. Реши примеры на умножение и деление и запиши ответ рядом с примером:

$7 * 0 =$	$4 : 2 =$
$7 * 1 =$	$3 : 3 =$
$7 * 2 =$	$8 : 2 =$

8. Сравни числа или длины и поставь знаки "<", ">" или "=" вместо ...

1 км 16 м ... 116 м	7 дм 41 см ... 741 см	$2 * 6 ... 10 + 5$
---------------------	-----------------------	--------------------

9. Вычисли периметр прямоугольника и подчеркни правильный ответ



46	44	40	42
----	----	----	----

Сумма баллов _____ оценка _____ / _____

Учитель (ФИО) _____ дата _____ подпись _____