

Задачи по математике за 2 класс для самостоятельной работы

Сложение и вычитания в пределах 20

1. Дополни ряд чисел:

6, 9, 12, ..., ...

2, 7, 12, ..., ...

8, 11, 14, ..., ...

2. Вычисли примеры:

$$4 + 12 - 3 + 6 - 0 + 1 - 5 =$$

$$14 - 5 + 7 - 9 + 6 - 0 =$$

$$3 + 8 - 4 + 6 - 2 + 11 =$$

3. В каком равенстве допущена ошибка:

$$5 + 9 = 14$$

$$6 + 8 = 17$$

$$4 - 3 + 5 = 6$$

4. Найди пропущенные числа:

$$6 + \dots = 13$$

$$\dots - 5 = 5$$

$$8 + \dots = 9$$

$$14 - \dots = 1$$

$$\dots - 8 = 12$$

$$13 + \dots = 19$$

$$\dots - 5 = 3$$

$$6 - \dots = 2$$

$$13 + 4 = \dots$$

5. Поставь знаки $>$, $<$ или $=$ в следующих задачах:

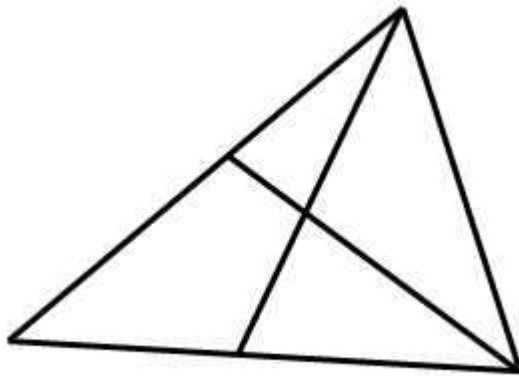
$$4 + 4 \dots 5 - 2$$

$$12 + 8 \dots 16 + 3$$


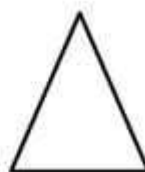

$$16 - 4 \dots 2 + 10$$

Геометрические фигуры

6. Сколько треугольников у этой фигуры?




7. Посмотри на ряд фигур и скажи?



Какая фигура имеет прямые углы?

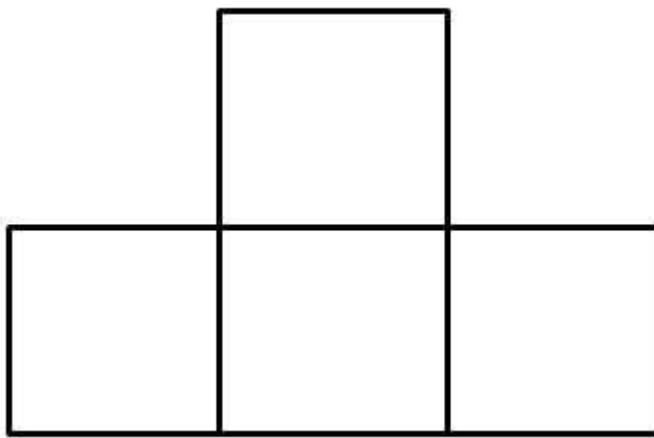
Какие из фигур не имеют углов вообще?

8. Назови правильно эти линии:



- Какая линия - замкнутая кривая?
- Какая линия - незамкнутая кривая?
- Какая линия - луч?
- Какая линия - отрезок?
- Какая линия - дуга?

9. Посмотри внимательно на рисунок:



- Сколько здесь квадратов?
- Сколько здесь прямоугольников?

Счет от 11 до 20

Реши задачи:

- Бабушка дала Вале 19 рублей. Валя купила в магазине конфеты и у неё осталось 9 рублей. На сколько Валя купила конфет в магазине?
- В бочку налили 16 литров воды а за тем вылили 3 литр. Сколько литров осталось в бочке?
- Коля прыгнул на 1 метр 18 сантиметров. Петя же прыгнул на 1 метр 12 сантиметров. На сколько дальше прыгнул Коля?
- Рубашка стоит 7 рублей, брюки стоят 11 рубля а кепка стоит 2 рублей. Сколько все вместе?
- На одной полке лежат 3 журнала, на другой 5 а на третьей лежат 9 журнал. Сколько всего журналов в книжном шкафу?
- У продавца всего 3 ящика слив. В первом ящика 6 килограмма, во втором ящике 8, а в третьем 4 кг. За день он продал 5 килограмм слив. Сколько всего слив осталось у продавца?

16. Реши задачу:

Вчера мастер сделал 34 детали, а сегодня на 13 деталей меньше. Сколько деталей сделал мастер сегодня?

17. Построй прямоугольник со сторонами 4 и 6 см. Найди его периметр.

18. Реши уравнения:

$$X - 18 = 34$$

$$Y + 36 = 65$$