

Дата: \_\_\_\_\_ Класс: \_\_\_\_\_ Имя: \_\_\_\_\_

## Контрольные работы по математике для 3 класса по учебнику Моро М.И. за 1, 2, 3 и 4 четверти

Данные контрольные работы составленные по требованию ФГОС по математике для начального образования и предназначены для проверки знаний в 3 классе по программе "Школа России". Результаты, полученные в ходе проверок, помогут преподавателю уровень усвоения материала и в случаи необходимости вносить корректировки в процесс обучения.

### Контрольная работа №1. "Сложение и вычитание чисел до 100", "Решение текстовых задач на сложение и вычитание"

#### Вариант I.

1. Реши примеры устно и запиши получившиеся ответы.

а)  $47 - 3 =$                       в)  $18 + 28 =$                       д)  $78 - 26 =$                       ж)  $38 + 34 =$

б)  $45 - 28 =$                       г)  $12 + 36 =$                       е)  $99 - 63 =$                       з)  $76 + 17 =$

2. Реши задачу.

В летний поход отправились 18 первоклассников, 46 второклассников и 25 третьеклассников. Через 5 часов 23 второклассника вернулись. Сколько человек продолжили поход?

3. Реши примеры письменно в столбик.:

а)  $27 - 13 =$                       б)  $48 + 18 =$                       в)  $29 - 9 =$                       г)  $15 + 40 =$

#### Вариант II.

1. Реши примеры устно и запиши получившиеся ответы.

а)  $45 - 13 =$                       в)  $23 + 38 =$                       д)  $60 - 16 =$                       ж)  $29 + 38 =$

б)  $22 - 21 =$                       г)  $39 + 36 =$                       е)  $85 - 43 =$                       з)  $15 + 57 =$

2. Реши задачу.

Для ремонта школы маляры купили 34 банки белой краски, 18 банок желтой краски и 12 банок синей. В первый день истратили 13 банок белой краски. Сколько краски осталось?

3. Реши примеры письменно в столбик.

а)  $99 - 13 =$                       б)  $38 + 38 =$                       в)  $21 - 19 =$                       г)  $85 + 11 =$

### Ответы на контрольную работу №1 на темы: "Сложение и вычитание чисел до 100", "Решение текстовых задач на сложение и вычитание"

Дата: \_\_\_\_\_ Класс: \_\_\_\_\_ Имя: \_\_\_\_\_

## Контрольная работа №2. "Введение в умножение и деление", "Текстовые задачи на умножение и деление"

### Вариант I.

1. В заданном числовом ряду обведи четные числа.

3, 5, 8, 12, 18, 23, 24

2. Замени сумму на произведение.

$$5 + 5 + 5 + 5 + 5 + 5 =$$

3. Известно, что  $3 * 4 = 12$ . Запиши частное:

$$12 : 4 = \underline{\quad}$$

$$12 : 3 = \underline{\quad}$$

4. Реши задачу.

Мама посадила на грядке три ряда моркови. В каждом ряду выросло 5 морковок. Сколько всего моркови выросло на грядке?

### Вариант II.

1. В заданном числовом ряду обведи нечетные числа.

3, 4, 7, 9, 12, 15, 18, 19

2. Замени сумму на произведение.

$$6 + 6 + 6 + 6 + 6 =$$

3. Известно, что  $5 * 2 = 10$ . Запиши частное:

$$10 : 2 = \underline{\quad}$$

$$10 : 5 = \underline{\quad}$$

4. Реши задачу.

С рынка бабушка принесла 4 пакета с яблоками. Каждый пакет весит по 2 кг. Найди общий вес всех пакетов.

Ответы на контрольную работу №2 на темы: "Введение в умножение и деление", "Текстовые задачи на умножение и деление"

Дата: \_\_\_\_\_ Класс: \_\_\_\_\_ Имя: \_\_\_\_\_

## Контрольная работа №3. "Умножение и деление на числа 3 и 4", "Текстовые задачи на умножение и деление на числа 3 и 4"

### Вариант I.

1. Реши задачу.

Бабушка купила 3 отреза ткани. В каждой отрезе 8 метров. Сколько всего метров ткани купила бабушка?

2. Реши задачу.

Света купила 18 конфет и поровну поделила их между тремя сёстрами. Сколько конфет получила каждая сестра?

3. Реши примеры.

а)  $7 * 3 =$

в)  $2 * 8 =$

д)  $18 : 3 =$

ж)  $8 : 4 =$

б)  $3 * 8 =$

г)  $5 * 4 =$

е)  $27 : 3 =$

з)  $20 : 4 =$

4. Реши задачу.

В гости к Коле пришли четверо друзей. Каждый из них принёс по 3 шоколадки. Сколько всего шоколадок принесли друзья?

### Вариант II.

1. Реши задачу.

В детском саду всего 4 комнаты. В каждой комнате по 5 столов. Сколько всего столов в детском саду?

2. Реши задачу.

Дедушка купил в магазине 15 пряников и поделил их поровну между 3 внуками. Сколько пряников досталось каждому внуку?

3. Реши примеры.

а)  $9 * 3 =$

в)  $4 * 7 =$

д)  $8 * 3 =$

ж)  $4 * 5 =$

б)  $21 : 3 =$

г)  $24 : 4 =$

е)  $12 : 4 =$

з)  $27 : 3 =$

4. Реши задачу.

В кружке занимаются 8 школьников. За неделю каждому ученику поставили по 4 оценки. Сколько всего оценок получили ученики?

Ответы на контрольную работу №3 на тему: "Умножение и деление на числа 3, 4",

Дата: \_\_\_\_\_ Класс: \_\_\_\_\_ Имя: \_\_\_\_\_

## "Текстовые задачи на умножение и деление на числа 3 и 4"

### Контрольная работа №4. "Порядок выполнения действий"

#### Вариант I.

Выполни действия письменно.

- $16 - 8 + 4 =$
- $3 * 4 - 8 : 2 =$
- $40 : 5 - 4 * 2 =$
- $5 + (18 : 3 - 3) * 2 =$

#### Вариант II.

Выполни действия письменно.

- $12 - 8 + 5 =$
- $4 + 8 * 2 =$
- $27 : 3 - 2 * 4 =$
- $17 - (4 * 3 - 8) * 3 =$

#### Вариант III.

Выполни действия письменно.

- $7 - 4 + 8 =$
- $4 * 6 - 4 : 2 =$
- $40 - 3 + 8 * 3 =$
- $(13 + 24 : 6 - 9) : 2 =$

## Ответы на контрольную работу №4 на тему: "Порядок выполнения действий"

### Контрольная работа №5 (I четверть). "Умножение и деление на числа 5, 6 и 7"

#### Вариант I.

Реши примеры.

- |              |              |               |               |
|--------------|--------------|---------------|---------------|
| а) $7 * 5 =$ | в) $2 * 6 =$ | д) $18 : 6 =$ | ж) $20 : 5 =$ |
| б) $6 * 8 =$ | г) $5 * 7 =$ | е) $24 : 6 =$ | з) $28 : 7 =$ |

#### Вариант II.

Реши примеры:

- |              |              |               |               |
|--------------|--------------|---------------|---------------|
| а) $4 * 7 =$ | в) $2 * 5 =$ | д) $15 : 5 =$ | ж) $21 : 7 =$ |
| б) $6 * 7 =$ | г) $5 * 6 =$ | е) $25 : 5 =$ | з) $24 : 6 =$ |

## Ответы на контрольную работу №5 на тему: "Умножение и деление на числа 5, 6 и 7"

### Контрольная работа №6. "Решение текстовых задач", "Правила раскрытия скобок – порядок действий"

#### Вариант I.

1. Реши задачу.

В соревнованиях участвовало 5 мальчиков и девочки, которых было в 8 раз больше, чем мальчиков. Сколько девочек участвовало в соревнованиях?

2. Реши задачу.

Во сколько раз число 28 больше числа 7?

3. Реши примеры.

а)  $68 - (55 + 20) : 5 =$       б)  $41 + (68 - 42) * 4 =$

4. Запиши выражение в числовом виде и реши его: "Произведение чисел 6 и 5 плюс частное чисел 8 и 2".

#### Вариант II.

1. Реши задачу.

Ученик мастера сделал 9 деталей, а мастер сделал в 7 раз больше деталей, чем ученик. Сколько деталей сделал мастер?

2. Реши задачу.

Во сколько раз число 56 больше числа 8?

3. Реши примеры.

а)  $72 - (34 + 20) : 3 =$       б)  $48 + (30 - 18) * 4 =$

4. Запиши выражение в числовом виде и реши его: "Разность чисел 12 и 8 плюс произведение чисел 9 и 3."

Дата: \_\_\_\_\_ Класс: \_\_\_\_\_ Имя: \_\_\_\_\_

## Вариант III.

1. Реши задачу.

Ученики 2 класса собрали 6 кг макулатуры, а ученики 7 класса собрали макулатуры в 8 раз больше, чем ученики 2 класса. Сколько кг макулатуры собрали ученики 7 класса?

2. Реши задачу.

Во сколько раз число 72 больше числа 9?

3. Реши примеры.

а)  $28 - (25 + 10) : 7 =$       б)  $41 + (35 - 28) * 4 =$

4. Запиши выражение в числовом виде и реши его: "Сумма чисел 6 и 17 минус произведение чисел 2 и 9".

Ответы на контрольную работу №6 на темы: "Решение текстовых задач", "Правила раскрытия скобок – порядок действий"

## Контрольная работа №7. "Умножение и деление на числа 8 и 9"

### Вариант I.

Реши примеры.

а)  $8 * 5 =$                       в)  $9 * 6 =$                       д)  $18 : 9 =$                       ж)  $40 : 8 =$

б)  $6 * 8 =$                       г)  $5 * 9 =$                       е)  $64 : 8 =$                       з)  $72 : 9 =$

### Вариант II.

Реши примеры:

а)  $8 * 7 =$                       в)  $2 * 9 =$                       д)  $72 : 8 =$                       ж)  $56 : 8 =$

б)  $8 * 8 =$                       г)  $9 * 1 =$                       е)  $27 : 9 =$                       з)  $32 : 8 =$

Ответы на контрольную работу №7 на тему: "Умножение и деление на числа 8 и 9"

Дата: \_\_\_\_\_ Класс: \_\_\_\_\_ Имя: \_\_\_\_\_

## Контрольная работа №8. "Порядок выполнения действий"

### Вариант I.

Решите уравнения.

- $24 + 5 * (28 : 7 - 2) =$
- $46 - (32 - 26) * 2 =$
- $17 + 3 * (45 : 5 + 1) =$

### Вариант II.

Решите уравнения.

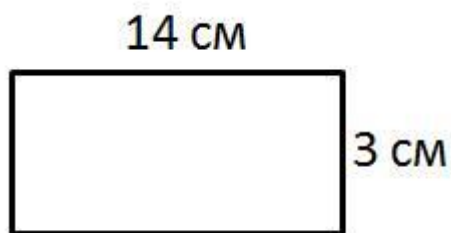
- $42 : 6 + (15 - 7) =$
- $90 - (32 - 12) * 4 =$
- $21 + 3 * (15 : 5 + 12) =$

## Ответы на контрольную работу №8 на темы: "Порядок выполнения действий"

## Контрольная работа №9. "Прямоугольник. Вычисление площади прямоугольника"

### Вариант I.

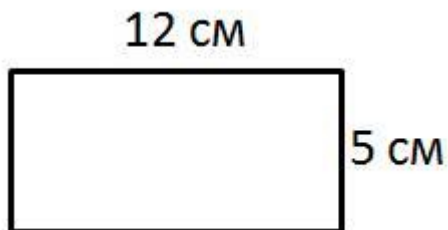
- Длина прямоугольника – 9 см, ширина – 5 см. Найди площадь этого прямоугольника.
- Начерти прямоугольник со сторонами 3 см и 4 см. Найди его площадь.
- Сторона квадрата равна 5 см. Чему равна площадь квадрата?
- Найди периметр и площадь прямоугольника, изображённого на рисунке.



### Вариант II.

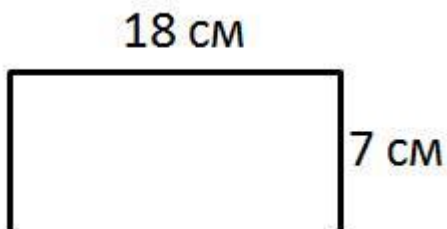
- Длина прямоугольника – 8 см, ширина – 3 см. Найди площадь этого прямоугольника.
- Начерти прямоугольник со сторонами 2 см и 7 см. Найди его площадь.
- Сторона квадрата равна 7 см. Чему равна площадь квадрата?
- Найди периметр и площадь прямоугольника, изображённого на рисунке.

Дата: \_\_\_\_\_ Класс: \_\_\_\_\_ Имя: \_\_\_\_\_



### Вариант III.

1. Длина прямоугольника – 5 см, ширина – 4 см. Найди площадь этого прямоугольника.
2. Начерти прямоугольник со сторонами 7 см и 8 см. Найди его площадь.
3. Сторона квадрата равна 8 см. Чему равна площадь квадрата?
4. Найди периметр и площадь прямоугольника, изображённого на рисунке.



### Ответы на контрольную работу №9 на тему: "Прямоугольник. Определение периметра и площади прямоугольника"

### Контрольная работа №10. "Решение текстовых задач на умножение и деление"

#### Вариант I.

1. Реши задачу.

В классе учится 15 школьников. Каждый из них имеет по 6 учебников. Сколько всего учебников имеют ученики класса?

2. Реши задачу.

В одной коробке находится 6 плиток шоколада. Сколько коробок с шоколадом привезли в магазин, если известно, что было привезено всего 48 плиток шоколада?

3. Реши задачу.

В детский сад привезли 5 машинок и 6 кукол. Стоимость машинки 12 рублей. А стоимость куклы на 3 рубля больше. На какую сумму привезли игрушек в детский сад?



Дата: \_\_\_\_\_ Класс: \_\_\_\_\_ Имя: \_\_\_\_\_

## Вариант II.

1. Реши задачу.

В течении дня портной шьёт 20 рукавиц. Сколько рукавиц он сошьёт за 5 дней?

2. Реши задачу.

За 8 дней рабочий выточил на станке 72 детали. Сколько деталей он делал в течении одного дня?

3. Реши задачу.

В школьную столовую привезли 8 упаковок сахара и 6 упаковок крупы, причём в каждой упаковке находится по 7 кг сахара или крупы. Сколько всего килограмм сахара и крупы привезли в школьную столовую?

## Вариант III.

1. Реши задачу.

Машина перевозит за один рейс 12 тонн груза. Сколько тонн груза она перевезёт за 8 рейсов?

2. Реши задачу.

Восемь ребят собрали вместе 80 кг макулатуры. Сколько кг макулатуры собрал каждый?

3. Решите задачу.

В рулоне – 67 м ткани. Для того, чтобы сшить 3 платья необходимо 12 м ткани. Сколько метров ткани останется в рулоне, если сшить 15 платьев?

Ответы на контрольную работу №10 на тему: "Решение текстовых задач на умножение и деление"

Дата: \_\_\_\_\_ Класс: \_\_\_\_\_ Имя: \_\_\_\_\_

## Контрольная работа №11. "Окружность, круг. Радиус и диаметр"

### Вариант I.

Начерти на бумаге окружность и выполни задания.

1. Начерти и измерь радиус окружности.
2. Начерти диаметр окружности. Чему равен диаметр?
3. Закрась одну третью круга.

### Вариант II.

Начерти на бумаге окружность и выполни задания.

1. Начерти и измерь радиус окружности.
2. Начерти три диаметра окружности. Чему равен диаметр?
3. Закрась одну четвертую круга.

### Вариант III.

Начерти на бумаге окружность и выполни задания.

1. Начерти и измерь радиус окружности.
2. Начерти два диаметра окружности. Чему равен диаметр?
3. Закрась одну шестую круга.

## Контрольная работа №12. "Внетабличное умножение и деление чисел от 1 до 100 (часть 1)", "Текстовые задачи"

### Вариант I.

1. Реши примеры:

а)  $21 * 3 =$

в)  $18 * 4 =$

д)  $13 * 5 =$

б)  $45 : 5 =$

г)  $64 : 4 =$

е)  $81 : 3 =$

2. Реши задачу.

В классе учится 28 школьников. Четверть учеников класса занимается в спортивной секции, а в музыкальном кружке занимается в 3 раза больше детей, чем в спортивной секции. Сколько учеников класса занимается в музыкальном кружке?

Дата: \_\_\_\_\_ Класс: \_\_\_\_\_ Имя: \_\_\_\_\_

## Вариант II.

1. Реши примеры.

а)  $25 * 3 =$

в)  $16 * 4 =$

д)  $18 * 5 =$

б)  $65 : 5 =$

г)  $84 : 4 =$

е)  $93 : 3 =$

2. Реши задачу.

За день рабочий делает 33 детали, а его ученик делает на треть деталей меньше, чем рабочий. Сколько деталей сделает ученик за 4 дня?

## Вариант III.

1. Реши примеры:

а)  $22 * 3 =$

в)  $17 * 4 =$

д)  $13 * 5 =$

б)  $75 : 5 =$

г)  $96 : 4 =$

е)  $69 : 3 =$

2. Реши задачу.

За один день ученики 3 класса собирают 48 кг ягод, а ученики 2 класса собирают на четверть меньше ягод, чем ученики 3 класса. Сколько килограмм ягод соберут ученики 2 класса за 3 дня?

Ответы на контрольную работу №12 на темы: "Внетабличное умножение и деление чисел от 1 до 100 (часть 1)", "Текстовые задачи"

**Контрольная работа №13 (3 четверть). "Внетабличное умножение и деление чисел от 1 до 100 (часть 2)", "Текстовые задачи"**

## Вариант I.

1. Реши примеры.

а)  $31 * 3 - 56 : 8 =$

в)  $68 - 51 : 3 * 4 =$

б)  $33 * 2 - 32 : 4 =$

г)  $4 * 17 - 39 : 3 =$

2. Реши задачу.

Туристическая группа состоит из 35 мальчиков и 40 девочек. Их расселили в 3 гостиницы. Сколько ребят расселили в каждую гостиницу, если известно, что в каждой гостинице их поровну.

3. Реши уравнение:  $24 : X = 8$ .

Дата: \_\_\_\_\_ Класс: \_\_\_\_\_ Имя: \_\_\_\_\_

## Вариант II.

1. Реши примеры.

а)  $33 * 3 - 48 : 4 =$                       в)  $69 - 56 : 4 * 2 =$

б)  $81 : 3 - 76 : 4 =$                       г)  $5 * 17 - 27 : 3 =$

2. Реши задачу.

В 5 пакетах по 2 кг апельсин и 6 кг мандарин. Сколько всего кг апельсинов и мандаринов во всех пакетах?

3. Реши уравнение:  $X * 16 = 64$ .

## Вариант III.

1. Реши примеры.

а)  $28 * 3 - 48 : 4 =$                       в)  $88 - 93 : 3 - 24 =$

б)  $18 * 4 - 72 : 4 =$                       г)  $5 * 18 - 63 : 3 =$

2. Реши задачу.

Килограмм яблок стоит 5 рублей, а килограмм груш стоит 8 рублей. Сколько стоит вся покупка, если куплено 6 кг яблок и 2 кг груш?

3. Реши уравнение:  $49 : Y = 7$ .

Ответы на контрольную работу №13 на темы: "Внетабличное умножение и деление чисел от 1 до 100 (часть 2)", "Текстовые задачи"

## Контрольная работа №14 (3 четверть). "Числа от 100 до 1000", "Текстовые задачи"

### Вариант I.

1. Представь данные числовые выражения в цифровом виде.

а) Триста сорок пять \_\_\_\_\_                      в) Пятьсот \_\_\_\_\_

б) Семьсот три \_\_\_\_\_                      г) Восемьсот пятнадцать \_\_\_\_\_

Дата: \_\_\_\_\_ Класс: \_\_\_\_\_ Имя: \_\_\_\_\_

2. Сравни числа, поставив знак < или >.

а) 485 ... 458

б) 209 ... 219

3. Составь правильное равенство.

а) 294 см = \_\_\_\_\_ м \_\_\_\_\_ см

б) 21 см = \_\_\_\_\_ дм \_\_\_\_\_ мм

## Вариант II.

1. Представь данные числовые выражения в цифровом виде.

а) Семьсот тридцать четыре

в) Восемьсот два \_\_\_\_\_

\_\_\_\_\_

б) Семьсот \_\_\_\_\_

г) Триста тринадцать \_\_\_\_\_

2. Сравни числа, поставив знак < или >.

а) 102 ... 201

б) 685 ... 658

3. Составь правильное равенство.

а) 51 мм = \_\_\_\_\_ см \_\_\_\_\_ мм

б) 14 дм 4 см = \_\_\_\_\_ мм

## Вариант III.

1. Представь данные числовые выражения в цифровом виде.

а) Шестьсот четырнадцать

в) Девятьсот \_\_\_\_\_

\_\_\_\_\_

б) Четыреста два \_\_\_\_\_

г) Двести четырнадцать \_\_\_\_\_

2. Сравни числа, поставив знак < или >.

а) 317 ... 371

б) 503 ... 530

3. Составь правильное равенство.:

а) 31 см = \_\_\_\_\_ см \_\_\_\_\_ мм

б) 3 м 6 см = \_\_\_\_\_ дм \_\_\_\_\_ мм

Ответы на контрольную работу №14 на темы: "Числа от 100 до 1000", "Текстовые задачи"

Дата: \_\_\_\_\_ Класс: \_\_\_\_\_ Имя: \_\_\_\_\_

## Контрольная работа №15. "Устное сложение и вычитание чисел до 1000"

### Вариант I.

1. Реши примеры устно и запиши ответ.

а)  $320 - 280 =$                       д)  $420 + 20 =$

б)  $840 - 50 =$                       е)  $650 + 13 =$

в)  $720 - 10 =$                       ж)  $230 + 30 =$

г)  $340 - 50 =$                       з)  $180 + 40 =$

2. Реши задачу.

В магазин привезли 240 упаковок яблочного сока и 580 упаковок апельсинового сока. Упаковки с соком были большого и маленького размеров. Сколько маленьких упаковок сока привезли в магазин, если известно, что больших упаковок привезли 380 штук?

3. Реши задачу.

Продовольственный магазин открыт с 8.00 утра до 18.00 часов вечера, аптека открыта с 10.00 утра до 21.00 вечера, а парикмахерская открыта с 11.00 утра до 19.00 вечера. В течении какого времени открыты все три учреждения?

### Вариант II.

1. Реши примеры устно и запиши ответ.

а)  $670 - 50 =$                       д)  $760 + 50 =$

б)  $720 - 30 =$                       е)  $360 + 40 =$

в)  $380 - 70 =$                       ж)  $230 + 80 =$

г)  $630 - 40 =$                       з)  $190 + 40 =$

2. Реши задачу.

На рынок завезли 260 бумажных пакетов и 520 пластиковых пакетов, среди них были пакеты большого и маленького размера. Сколько завезли маленьких пакетов, если известно, что больших пакетов завезли 430 штук?

3. Реши задачу.

Школа работает с 8.00 утра до 16.00 вечера, спортивный зал работает с 11.00 утра до 20.00 вечера, библиотека работает с 12.00 дня до 18.00 вечера. В течении какого времени работают все три учреждения?

Дата: \_\_\_\_\_ Класс: \_\_\_\_\_ Имя: \_\_\_\_\_

## Вариант III.

1. Реши примеры устно и запиши ответ.

а)  $980 - 50 =$                       д)  $720 + 70 =$

б)  $520 - 80 =$                       е)  $370 + 80 =$

в)  $310 - 20 =$                       ж)  $130 + 30 =$

г)  $718 - 21 =$                       з)  $140 - 140 =$

2. Реши задачу.

В магазин завезли 300 мобильных телефонов фирмы Nokia и 150 мобильных телефонов фирмы Samsung. Все мобильные телефоны были 2 цветов: черного и красного. Сколько мобильных телефонов чёрного цвета завезли в магазин, если известно, что мобильных телефонов красного цвета завезли 49 штук?

3. Реши задачу.

Клуб работает с 11.00 утра до 22.00 вечера, столовая работает с 09.00 утра до 20.00 вечера, библиотека работает с 12.00 дня до 18.00 вечера. В течении какого времени работают все три учреждения?

Ответы на контрольную работу №15 на тему: "Устное сложение и вычитание чисел до 1000"

## Контрольная работа №16. "Письменные приёмы сложения и вычитания чисел от 1 до 1000"

### Вариант I.

1. Реши примеры письменно в столбик.

а)  $428 - 180 =$                       д)  $320 + 520 =$

б)  $482 - 150 =$                       е)  $744 + 213 =$

в)  $573 - 270 =$                       ж)  $590 + 230 =$

г)  $473 - 70 =$                       з)  $394 + 56 =$

### Вариант II.

1. Реши примеры письменно в столбик.

а)  $428 - 254 =$                       д)  $726 + 12 =$

б)  $377 - 143 =$                       е)  $863 + 137 =$

в)  $678 - 611 =$                       ж)  $364 + 543 =$

г)  $611 - 45 =$                       з)  $526 + 256 =$

Дата: \_\_\_\_\_ Класс: \_\_\_\_\_ Имя: \_\_\_\_\_

## Вариант III.

1. Реши примеры письменно в столбик.

а)  $723 - 440 =$

д)  $498 + 186 =$

б)  $765 - 65 =$

е)  $324 + 653 =$

в)  $425 - 280 =$

ж)  $308 + 450 =$

г)  $424 - 66 =$

з)  $384 + 156 =$

Ответы на контрольную работу №16 на тему: "Письменные приёмы сложения и вычитания чисел от 1 до 1000"

**Контрольная работа №17. "Устные приёмы умножения и деления чисел от 1 до 1000"**

## Вариант I.

1. Реши примеры.

а)  $420 * 2 =$

д)  $320 * 3 =$

б)  $302 * 3 =$

е)  $270 * 2 =$

в)  $640 : 4 =$

ж)  $540 : 3 =$

г)  $360 : 3 =$

з)  $600 : 2 =$

## Вариант II.

1. Реши примеры.

а)  $210 * 3 =$

д)  $340 * 2 =$

б)  $209 * 2 =$

е)  $120 * 5 =$

в)  $840 : 4 =$

ж)  $690 : 3 =$

г)  $480 : 4 =$

з)  $340 : 2 =$



Дата: \_\_\_\_\_ Класс: \_\_\_\_\_ Имя: \_\_\_\_\_

## Вариант III.

1. Реши примеры.

а)  $250 * 3 =$

д)  $280 * 2 =$

б)  $304 * 2 =$

е)  $200 * 5 =$

в)  $420 : 3 =$

ж)  $550 : 5 =$

г)  $306 : 3 =$

з)  $320 : 2 =$

## Ответы на контрольную работу №17 на тему: "Устные приёмы умножения и деления чисел от 1 до 1000"

## Контрольная работа №18. "Письменное умножение на однозначное число"

### Вариант I.

1. Выполните умножение в столбик.

а)  $245 * 3 =$

д)  $292 * 3 =$

б)  $224 * 4 =$

е)  $126 * 5 =$

в)  $64 * 6 =$

ж)  $54 * 7 =$

г)  $105 * 8 =$

з)  $35 * 9 =$

2. Длина стороны квадрата равна 37 см. Найдите периметр квадрата.

### Вариант II.

1. Реши примеры письменно в столбик.

а)  $376 * 2 =$

д)  $265 * 3 =$

б)  $255 * 3 =$

е)  $176 * 5 =$

в)  $84 * 6 =$

ж)  $63 * 9 =$

г)  $48 * 5 =$

з)  $127 * 4 =$

2. Длина стороны треугольника равна 16 мм. Найдите периметр треугольника.

Дата: \_\_\_\_\_ Класс: \_\_\_\_\_ Имя: \_\_\_\_\_

## Вариант III.

1. Реши примеры письменно в столбик.

а)  $278 * 2 =$                       д)  $240 * 3 =$

б)  $124 * 4 =$                       е)  $59 * 8 =$

в)  $70 * 7 =$                       ж)  $59 * 9 =$

г)  $8 * 6 =$                       з)  $204 * 4 =$

2. Длина стороны квадрата равна 1 см 4 мм. Найдите периметр квадрата.

Ответы на контрольную работу №18 на тему: "Письменное умножение на однозначное число"

## Контрольная работа №19. "Письменное деление на однозначное число"

### Вариант I.

Выполни деление в столбик:

а)  $345 : 5 =$                       в)  $492 : 2 =$

б)  $618 : 3 =$                       г)  $824 : 4 =$

### Вариант II.

Выполни деление в столбик.

а)  $495 : 5 =$                       в)  $692 : 2 =$

б)  $954 : 3 =$                       г)  $648 : 4 =$

### Вариант III.

Выполни деление в столбик:

а)  $275 : 5 =$                       в)  $286 : 2 =$

б)  $312 : 3 =$                       г)  $456 : 4 =$

Ответы на контрольную работу №19 на тему: "Письменное деление на однозначное число"

Дата: \_\_\_\_\_ Класс: \_\_\_\_\_ Имя: \_\_\_\_\_

**Ответы на контрольную работу №1 на темы: "Сложение и вычитание чисел до 100", "Решение текстовых задач на сложение и вычитание"**

Вариант I.

1. а) 44; б) 17; в) 46; г) 48; д) 52; е) 36; ж) 72; з) 93.

2. 66 человек.

3. а) 14; б) 66; в) 20; г) 55.

Вариант II.

1. а) 32; б) 1; в) 61; г) 75; д) 44; е) 42; ж) 67; з) 72.

2. 51 банка.

3. а) 86; б) 76; в) 2; г) 96.

**Ответы на контрольную работу №2 на темы: "Введение в умножение и деление", "Текстовые задачи на умножение и деление"**

Вариант I.

1. 8, 12, 18, 24 .

2.  $5 \cdot 6$ .

3. 3, 4.

4. 15 морковок.

Вариант II.

1. 3, 7, 9, 15, 19.

2.  $6 \cdot 5$ .

3. 5, 2.

4. 8 кг.

**Ответы на контрольную работу №3 на темы: "Умножение и деление на числа 3 и 4", "Текстовые задачи на умножение и деление на числа 3 и 4"**

Вариант I.

1. 24 м.

2. 6 конфет.

3. а) 21; б) 24; в) 16; г) 20; д) 6; е) 9; ж) 2; з) 5.

4. 12 шоколадок.

Вариант II.

1. 20 столов.

2. 5 пряников.

3. а) 27; б) 7; в) 28; г) 6; д) 24; е) 3; ж) 20; з) 9.

4. 32 оценки.

Дата: \_\_\_\_\_ Класс: \_\_\_\_\_ Имя: \_\_\_\_\_

## Ответы на контрольную работу №4 на тему: "Порядок выполнения действий"

Вариант I.

1. 12.
2. 8.
3. 0.
4. 11.

Вариант II.

1. 9.
2. 20.
3. 1.
4. 5.

Вариант III.

1. 11.
2. 22.
3. 61.
4. 4.

## Ответы на контрольную работу №5 на тему: "Умножение и деление на числа 5, 6 и 7"

Вариант I.

1. а) 35; б) 48; в) 12; г) 35; д) 3; е) 4; ж) 4; з) 4.

Вариант II.

1. а) 28; б) 42; в) 10; г) 30; д) 3; е) 5; ж) 3; з) 4.

## Ответы на контрольную работу №6 на темы: "Решение текстовых задач", "Правила раскрытия скобок – порядок действий"

Вариант I.

1. 13 девочек.
2. В 4 раза.
3. а) 53; б) 155.
4.  $6 \cdot 5 + 8 : 2 = 34$ .

Вариант II.

1. 63 детали.
2. В 7 раз.
3. а) 54; б) 96.
4.  $12 - 8 + (9 \cdot 3) = 31$ .

Вариант III.

1. 48 кг.
2. в 8 раз.
3. а) 17; б) 69.
4.  $6 + 17 - 2 \cdot 9 = 5$ .

Дата: \_\_\_\_\_ Класс: \_\_\_\_\_ Имя: \_\_\_\_\_

## **Ответы на контрольную работу №7 на тему: "Умножение и деление на числа 8 и 9"**

Вариант I.

1. а) 40; б) 48; в) 54; г) 45; д) 2; е) 8; ж) 5; з) 8.

Вариант II.

1. а) 56; б) 64; в) 18; г) 9; д) 9; е) 3; ж) 7; з) 4.

## **Ответы на контрольную работу №8 на тему: "Умножение и деление на числа 8 и 9"**

Вариант I.

1. 34.

2. 34.

3. 47.

Вариант II.

1. 15.

2. 10.

3. 66.

## **Ответы на контрольную работу №9 на тему: "Прямоугольник. Определение периметра и площади прямоугольника"**

Вариант I.

1.  $45 \text{ см}^2$ .

2.  $12 \text{ см}^2$ .

3.  $25 \text{ см}^2$ .

4. 34 см,  $42 \text{ см}^2$ .

Вариант II.

1.  $24 \text{ см}^2$ .

2.  $14 \text{ см}^2$ .

3.  $49 \text{ см}^2$ .

4. 34 см,  $60 \text{ см}^2$ .

Вариант III.

1.  $20 \text{ см}^2$ .

2.  $56 \text{ см}^2$ .

3.  $64 \text{ см}^2$ .

4. 50 см,  $126 \text{ см}^2$ .

## **Ответы на контрольную работу №10 на тему: "Решение текстовых задач на умножение и деление"**

Вариант I.

1. 90 учебников.

2. 8 коробок.

3. 150 рублей.

Вариант II.

1. 100 рукавиц.

2. 9 деталей.

3. 98 кг.

Вариант III.

1. 96 тонн.

2. 10 кг.

3. 7 м.

Дата: \_\_\_\_\_ Класс: \_\_\_\_\_ Имя: \_\_\_\_\_

## Ответы на контрольную работу №12 на темы: "Внетабличное умножение и деление на числа от 1 до 100 (часть 1)", "Текстовые задачи"

Вариант I.

1. а) 63; б) 9; в) 72; г) 16; д) 65; е) 27.

2. 21 ученика.

Вариант II.

1. а) 75; б) 13; в) 64; г) 21; д) 40; е) 31.

2. 44 детали.

Вариант III.

1. а) 66; б) 15; в) 68; г) 24; д) 65; е) 23.

2. 36 кг.

## Ответы на контрольную работу №13 на темы: "Внетабличное умножение и деление на числа от 1 до 100 (часть 2)", "Текстовые задачи"

Вариант I.

1. а) 86; б) 48; в) 0; г) 55.

2. 25 человек.

3.  $X=3$ .

Вариант II.

1. а) 87; б) 8; в) 37; г) 76.

2. 40 кг.

3.  $X=4$ .

Вариант III.

1. а) 42; б) 54; в) 33; г) 19.

2. 46 кг.

3.  $Y=7$ .

## Ответы на контрольную работу №14 на темы: "Числа от 100 до 1000", "Текстовые задачи"

Вариант I.

1. а) 345; б) 703; в) 500; г) 815.

2. а)  $485 > 458$ ; б)  $209 < 219$ .

3. а)  $294 \text{ см} = 2 \text{ м } 94 \text{ см}$ ; б)  $21 \text{ см} = 2 \text{ д } 10 \text{ мм}$ .

Вариант II.

1. а) 734; б) 700; в) 802; г) 313.

2. а)  $102 < 201$ ; б)  $685 > 658$ .

3. а)  $51 \text{ мм} = 5 \text{ см } 1 \text{ мм}$ ; б)  $14 \text{ дм } 4 \text{ см} = 1440 \text{ мм}$ .

Вариант III.

1. а) 614; б) 402; в) 900; г) 214.

2. а)  $317 < 371$ ; б)  $503 < 530$ .

3. а)  $31 \text{ см} = 30 \text{ см } 10 \text{ мм}$ ; б)  $3 \text{ м } 6 \text{ см} = 30 \text{ дм } 60 \text{ мм}$ .

## Ответы на контрольную работу №15 на тему: "Устное сложение и вычитание чисел до 1000"

Вариант I.

1. а) 40; б) 790; в) 710; г) 290; д) 440; е) 663; ж) 260; з) 220.

2. 440 штук.

3. С 11.00 утра до 18.00 вечера.

Вариант II.

1. а) 620; б) 690; в) 310; г) 590; д) 810; е) 400; ж) 310; з) 230.

2. 350 шт..

3. С 12.00 дня до 16.00 вечера..

Дата: \_\_\_\_\_ Класс: \_\_\_\_\_ Имя: \_\_\_\_\_

Вариант III.

1. а) 930; б) 440; в) 290; г) 697; д) 790; е) 450; ж) 160; з) 0.
2. 401 шт.
3. С 12.00 утра до 18.00 вечера.

## **Ответы на контрольную работу №16 на тему: "Устное сложение и вычитание чисел до 1000"**

Вариант I.

1. а) 248; б) 332; в) 303; г) 403; д) 840; е) 957; ж) 820; з) 450.

Вариант II.

1. а) 174; б) 234; в) 67; г) 566; д) 738; е) 1000; ж) 907; з) 782.

Вариант III.

1. а) 283; б) 700; в) 145; г) 358; д) 684; е) 877; ж) 758; з) 540.

## **Ответы на контрольную работу №17 на тему: "Устные приёмы умножения и деления чисел от 1 до 1000"**

Вариант I.

1. а) 840; б) 906; в) 160; г) 120; д) 960; е) 540; ж) 180; з) 300.

Вариант II.

1. а) 630; б) 418; в) 210; г) 120; д) 680; е) 600; ж) 230; з) 170.

Вариант III.

1. а) 750; б) 608; в) 140; г) 102; д) 560; е) 1000; ж) 110; з) 160.

## **Ответы на контрольную работу №18 на тему: "Письменное умножение на однозначное число"**

Вариант I.

1. а) 735; б) 896; в) 384; г) 840; д) 876; е) 630; ж) 378; з) 315.
2. 148 см.

Вариант II.

1. а) 752; б) 765; в) 504; г) 240; д) 795; е) 880; ж) 567; з) 508.
2. 48 см.

Вариант III.

1. а) 556; б) 496; в) 490; г) 48; д) 720; е) 472; ж) 531; з) 816.
2. 5 см 6 мм.

## **Ответы на контрольную работу №19 на тему: "Письменное деление на однозначное число"**

Вариант I.

1. а) 69; б) 206; в) 246; г) 206.

Вариант II.

1. а) 99; б) 318; в) 346; г) 162.

Вариант III.

1. а) 55; б) 104; в) 143; г) 114.