

УМК "Школа России"

Тесты по математике - 3 класс, 3 четверть

Город /населённый пункт _____ школа № _____ класс _____

Фамилия и имя ученика _____ дата _____

Тест №:1 , Вариант I

1. Решите примеры и запишите ответы рядом:

| | |
|----------------------|----------------------|
| $23 + 45 - 5 * 7 =$ | $49 - 37 + 14 * 4 =$ |
| $24 * 3 - 18 * 3 =$ | $12 * 4 - 77 : 7 =$ |
| $48 * 3 - 56 - 18 =$ | $12 + 38 - 48 : 4 =$ |

2. Решите задачу и отметьте правильный вариант:

Коля в день собирает 28 кг яблок. Сколько яблок он соберёт за 3 дня?

| | | | |
|----|----|----|----|
| 80 | 82 | 84 | 86 |
|----|----|----|----|

3. Решите задачу и отметьте правильный вариант:

В актовом зале 72 стула расставлены в 8 рядов. Сколько стульев в одном ряду?

| | | | |
|----|---|---|---|
| 10 | 9 | 8 | 7 |
|----|---|---|---|

4. Решите примеры и запишите ответ рядом:

| | |
|------------|------------|
| $4 * 0 =$ | $15 : 1 =$ |
| $14 * 1 =$ | $6 * 0 =$ |
| $32 : 1 =$ | $0 : 8 =$ |

5. Решите задачу и отметьте правильный вариант:

Из 15 кг яблок сделали 5 кг яблочного повидла. Сколько нужно яблок, чтобы сделать 20 кг повидла?

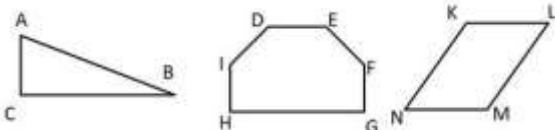
| | | | |
|----|----|----|----|
| 20 | 55 | 60 | 80 |
|----|----|----|----|

6. Решите уравнения и запишите ответ ниже:

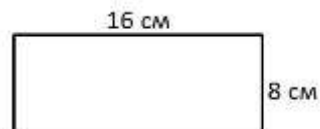
| | | | |
|---------------|---------------|--------------|--------------|
| $X * 13 = 42$ | $63 : Y = 21$ | $24 : X = 3$ | $Y * 4 = 27$ |
| X = | Y = | X = | Y = |

7. Задачи по геометрии:

1. Начерти 3 отрезка. Первый равен 6 см. Второй на 1 см длиннее. А третий в 2 раза короче чем первый.



2. Найди прямые, тупые и острые углы на рисунке. Напиши их.



3. Найди периметр и площадь прямоугольника. Запиши ответ.

Сумма баллов _____ оценка _____ / _____ /

Учитель (ФИО) _____ дата _____ подпись _____

УМК "Школа России"

Тесты по математике - 3 класс, 3 четверть

Город /населённый пункт _____ школа № _____ класс _____

Фамилия и имя ученика _____ дата _____

Тест №:1 , Вариант II

1. Решите примеры и запишите ответы рядом:

| | |
|----------------------|----------------------|
| $38 + 29 - 15 * 4 =$ | $52 - 37 + 14 : 7 =$ |
| $24 * 3 - 19 * 2 =$ | $21 * 4 - 72 : 9 =$ |
| $17 * 4 - 56 + 32 =$ | $12 * 9 - 48 : 8 =$ |

2. Решите задачу и отметьте правильный вариант:

Магазин продает 18 пачек шоколада за день. Сколько упаковок магазин продает за 5 дней?

| | | | |
|----|----|----|----|
| 80 | 96 | 90 | 92 |
|----|----|----|----|

3. Решите задачу и отметьте правильный вариант:

На грядке посажено 56 кустов клубники. В одном ряду 4 куста. Сколько рядов клубники посажено?

| | | | |
|----|----|----|----|
| 11 | 12 | 13 | 14 |
|----|----|----|----|

4. Решите примеры и запишите ответы рядом:

| | |
|------------|------------|
| $25 : 1 =$ | $0 : 14 =$ |
| $23 * 1 =$ | $16 * 0 =$ |
| $0 * 14 =$ | $18 : 1 =$ |

5. Решите задачу и отметьте правильный вариант:

Из 48 метров ткани сшили 12 костюмов. Сколько метров ткани понадобится, если нужно сшить 18 костюмов?

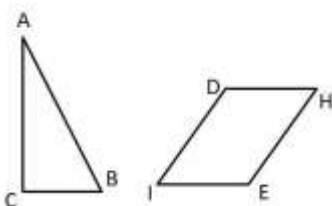
| | | | |
|----|----|----|----|
| 68 | 72 | 80 | 76 |
|----|----|----|----|

6. Решите уравнения и запишите ответ ниже:

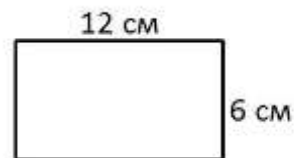
| | | | |
|---------------|---------------|--------------|--------------|
| $X * 18 = 72$ | $90 : Y = 30$ | $21 : X = 3$ | $Y * 6 = 42$ |
| $X =$ | $Y =$ | $X =$ | $Y =$ |

7. Задачи по геометрии:

1. Начерти 3 отрезка. Первый равен 8 см. Второй на 1 см длиннее. А третий в 4 раза короче чем первый.



2. Найди прямые, тупые и острые углы на рисунке. Напиши их.



3. Найди периметр и площадь прямоугольника. Запиши ответ.

Сумма баллов _____ оценка _____ / _____ /
Учитель (ФИО) _____ дата _____ подпись _____

УМК "Школа России"

Тесты по математике - 3 класс, 3 четверть

Город /населённый пункт _____ школа № _____ класс _____

Фамилия и имя ученика _____ дата _____

Тест №:1 , Вариант III

1. Решите примеры и запиши ответы рядом:

| | | |
|----------------------|-----------------------|----------------------|
| $23 * 3$ | $45 - 15 * 2 =$ | $49 - 28 + 17 * 4 =$ |
| $24 : 8 + 16 * 3 =$ | $12 * 5 - 56 : 8 =$ | |
| $14 + 17 - 72 : 8 =$ | $12 + 30 - 42 : 14 =$ | |

2. Решите задачу и отметьте правильный вариант:

Рабочий изготавливает 23 детали за день. Сколько деталей рабочий изготовит за 4 дня?

| | | | |
|----|----|----|----|
| 90 | 92 | 94 | 96 |
|----|----|----|----|

3. Решите задачу и отметьте правильный вариант:

В книжном шкафу 96 учебников. Всего в шкафу 4 полки. Сколько книг на каждой полке?

| | | | |
|----|----|----|----|
| 21 | 20 | 24 | 22 |
|----|----|----|----|

4. Решите примеры и запишите ответы рядом:

| | |
|------------|------------|
| $21 : 1 =$ | $0 : 19 =$ |
| $12 * 1 =$ | $13 * 0 =$ |
| $0 * 34 =$ | $15 : 1 =$ |

5. Решите задачу и отметьте правильный вариант:

На изготовление 3 столов ушло 21 метр доски. Сколько метров досок нужно, чтобы изготовить 8 столов?

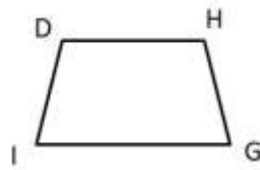
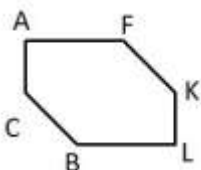
| | | | |
|----|----|----|----|
| 56 | 70 | 64 | 48 |
|----|----|----|----|

6. Решите уравнения и запишите ответ ниже:

| | | | |
|---------------|--------------|--------------|--------------|
| $X * 12 = 96$ | $72 : Y = 8$ | $25 : X = 5$ | $Y * 7 = 42$ |
| $X =$ | $Y =$ | $X =$ | $Y =$ |

7. Задачи по геометрии:

1. Начерти 3 отрезка. Первый равен 2 см. Второй на 6 см длиннее. А третий в 2 раза короче чем второй.



3. Найди периметр и площадь прямоугольника. Запиши ответ.

2. Найди прямые, тупые и острые углы на рисунке. Напиши их.

Сумма баллов _____ оценка _____ / _____ /

Учитель (ФИО) _____ дата _____ подпись _____

УМК "Школа России"

Тесты по математике - 3 класс, 3 четверть

Город /населённый пункт _____ школа № _____ класс _____

Фамилия и имя ученика _____ дата _____

Тест №:2, вариант I

1. Решите примеры и запишите ответы рядом с примерами:

| | | |
|------------|------------|------------|
| $12 * 3 =$ | $13 * 4 =$ | $14 * 5 =$ |
| $70 : 5 =$ | $64 : 4 =$ | $63 : 3 =$ |

2. Решите задачу и запишите правильный ответ:

3 класс собрал 28 кг огурцов, а 2 класс собрал 20 кг. Все огурцы разложили в пакеты по 6 кг. Сколько пакетов понадобилось?

Ответ: _____

3. Решите примеры:

| | |
|---------------------|---------------------|
| $27 * 3 - 64 : 8 =$ | $64 - 18 : 3 * 4 =$ |
| $37 * 2 - 56 : 4 =$ | $5 * 17 - 51 : 3 =$ |

УМК "Школа России"

Тесты по математике - 3 класс, 3 четверть

Город /населённый пункт _____ школа № _____ класс _____

Фамилия и имя ученика _____ дата _____

Тест №:2, вариант II

1. Решите примеры и запишите ответы рядом с примерами:

| | | |
|------------|------------|------------|
| $25 * 3 =$ | $16 * 4 =$ | $17 * 5 =$ |
| $80 : 5 =$ | $84 : 4 =$ | $93 : 3 =$ |

2. Решите задачу и запишите правильный ответ:

Собрали 24 кг яблок и 18 кг груш. Весь урожай разложили в ящики по 4 кг. Сколько ящиков понадобилось?

Ответ: _____

3. Решите примеры:

| | |
|---------------------|---------------------|
| $31 * 3 - 56 : 8 =$ | $64 - 51 : 3 * 4 =$ |
| $33 * 2 - 72 : 4 =$ | $4 * 17 - 39 : 3 =$ |

УМК "Школа России"

Тесты по математике - 3 класс, 3 четверть

Город /населённый пункт _____ школа № _____ класс _____

Фамилия и имя ученика _____ дата _____

Тест №:2, вариант III

1. Решите примеры и запишите ответы рядом с примерами:

| | | |
|------------|------------|------------|
| $18 * 3 =$ | $19 * 4 =$ | $12 * 5 =$ |
| $90 : 5 =$ | $60 : 4 =$ | $84 : 3 =$ |

2. Решите задачу и запишите правильный ответ:

Первая бригада собрала 46 кг ягод, вторая бригада собрала 42 кг. Все ягоды разложили в ящики по 4 кг. Сколько ящиков понадобилось?

Ответ: _____

3. Решите примеры:

| | |
|---------------------|---------------------|
| $18 * 4 - 81 : 3 =$ | $74 - 21 : 3 * 7 =$ |
| $33 * 3 - 75 : 3 =$ | $4 * 18 - 51 : 3 =$ |

УМК "Школа России"

Тесты по математике - 3 класс, 4 четверть

Город /населённый пункт _____ школа № _____ класс _____

Фамилия и имя ученика _____ дата _____

Тест №:1, вариант I

1. Решите задачу: и запишите ответ:

3 класс собрал 450 кг огурцов, а 2 класс 380 кг. Из всего урожая 430 кг увезли на склад, а остальное в столовую. Сколько кг увезли в столовую?

Ответ: _____

2. Решите примеры и запишите ответы рядом с примерами:

| | |
|-------------|-------------|
| $130 * 8 =$ | $840 : 3 =$ |
| $5 * 120 =$ | $760 : 4 =$ |
| $220 * 3 =$ | $490 : 7 =$ |

3. Решите уравнения и запишите ответ рядом:

$$7 * x = 560$$

$$y : 9 = 60$$

$$a - 560 = 2400$$

$$b + 380 = 550$$

4. Решите примеры столбиком:

| | |
|--------------|--------------|
| $570 - 50 =$ | $920 + 50 =$ |
| $720 - 10 =$ | $360 + 90 =$ |
| $310 - 30 =$ | $560 + 90 =$ |
| $830 - 70 =$ | $790 + 80 =$ |

УМК "Школа России"

Тесты по математике - 3 класс, 4 четверть

Город /населённый пункт _____ школа № _____ класс _____

Фамилия и имя ученика _____ дата _____

Тест №:1, вариант II

1. Решите задачу: и запишите ответ:

В мастерскую привезли 230 литров красной краски и 560 литров синей. На покраску школы ушло 480 литров. Сколько краски осталось?

Ответ: _____

2. Решите примеры и запишите ответы рядом с примерами:

| | |
|-------------|-------------|
| $190 * 4 =$ | $840 : 4 =$ |
| $7 * 120 =$ | $360 : 6 =$ |
| $220 * 4 =$ | $840 : 7 =$ |

3. Решите уравнения:

$$8 * x = 640$$

$$y : 9 = 30$$

$$a - 260 = 420$$

$$b + 180 = 660$$

4. Решите примеры столбиком:

| | |
|--------------|--------------|
| $970 - 50 =$ | $320 + 50 =$ |
| $520 - 10 =$ | $630 + 90 =$ |
| $320 - 30 =$ | $230 + 90 =$ |
| $220 - 20 =$ | $590 + 50 =$ |

УМК "Школа России"

Тесты по математике - 3 класс, 4 четверть

Город /населённый пункт _____ школа № _____ класс _____

Фамилия и имя ученика _____ дата _____

Тест №:1, вариант III

1. Решите задачу: и запишите ответ:

В школьную столовую привезли 230 кг сахара и 450 кг муки. За неделю ушло 360 кг сахара и муки. Сколько всего сахара и муки осталось?

Ответ: _____

2. Решите примеры и запишите ответы рядом с примерами:

| | |
|-------------|-------------|
| $130 * 7 =$ | $840 : 2 =$ |
| $6 * 120 =$ | $720 : 6 =$ |
| $250 * 4 =$ | $480 : 8 =$ |

3. Решите уравнения:

$$5 * x = 750$$

$$y : 4 = 80$$

$$a - 610 = 380$$

$$b + 280 = 970$$

4. Решите примеры столбиком:

| | |
|--------------|--------------|
| $910 - 80 =$ | $310 + 30 =$ |
| $120 - 60 =$ | |
| $740 - 30 =$ | $730 + 40 =$ |
| $440 - 30 =$ | $260 + 50 =$ |

УМК "Школа России"

Тесты по математике - 3 класс, 4 четверть

Город /населённый пункт _____ школа № _____ класс _____

Фамилия и имя ученика _____ дата _____

Тест №:2, вариант I

1. Решите примеры столбиком:

| | |
|---------------|---------------|
| $984 - 252 =$ | $523 + 164 =$ |
| $523 - 424 =$ | $374 + 421 =$ |
| $319 - 253 =$ | $130 + 317 =$ |

2. Решите задачу:

На складе 36 мешков с сахаром, а мешков с мукой на 28 меньше. Во сколько раз мешков с мукой меньше чем мешков с сахаром?

Ответ: _____

3. Найдите значения выражений:

$$24 * 7 + 336 : 6 - 388 =$$

$$13 * 9 + 452 : 2 - 246 =$$

4. Решите задачу:

200 гр. мармелада стоят 25 рублей. Сколько стоит 2 кг мармелада?

УМК "Школа России"

Тесты по математике - 3 класс, 4 четверть

Город /населённый пункт _____ школа № _____ класс _____

Фамилия и имя ученика _____ дата _____

Тест №:2, вариант II

1. Решите примеры столбиком:

| | |
|---------------|---------------|
| $557 - 294 =$ | $423 + 235 =$ |
| $945 - 654 =$ | $374 + 336 =$ |
| $819 - 765 =$ | $130 + 345 =$ |

2. Решите задачу:

Всего собрали 140 кг смородины, а клубники на 120 кг меньше. Во сколько раз клубники меньше чем смородины?

Ответ: _____

3. Найдите значения выражений:

$$23 * 8 + 336 : 6 - 488 =$$

$$16 * 5 + 442 : 2 - 246 =$$

4. Решите задачу:

2 кг сметаны стоят 140 рублей. Сколько стоит 100 гр. сметаны?

УМК "Школа России"

Тесты по математике - 3 класс, 4 четверть

Город /населённый пункт _____ школа № _____ класс _____

Фамилия и имя ученика _____ дата _____

Тест №:2, вариант III

1. Решите примеры столбиком:

| | |
|---------------|---------------|
| $594 - 252 =$ | $453 + 164 =$ |
| $778 - 421 =$ | $112 + 845 =$ |
| $378 - 232 =$ | $130 + 657 =$ |

2. Решите задачу:

В мастерскую привезли 72 литра белой краски, а красной на 56 литров меньше. Во сколько красной краски меньше чем белой?

Ответ: _____

3. Найдите значения выражений:

$$24 * 8 + 336 : 6 + 88 =$$

$$16 * 9 + 342 : 2 - 146 =$$

4. Решите задачу:

200 гр. конфет стоят 15 рублей. Сколько стоит 1 кг конфет?