

Дата: _____ Класс: _____ Имя: _____

Тесты для детей от 4 лет

Тест на счет от 1 до 10

Сосчитай вслух, сколько на рисунке треугольников?



Сколько на рисунке цветочков?



Сосчитай вслух, сколько на рисунке квадратиков? Покажи получившееся число пальчиками. Назови цвета квадратиков, которые ты знаешь.



Сколько овалов на рисунке? Сосчитай вслух и покажи пальчиками.




Сколько кружочков изображено на рисунке? Покажи пальчиками.



А сколько кружочков на этом рисунке?



Посчитай количество кубиков, изображённых на рисунке.



Дата: _____ Класс: _____ Имя: _____


Тесты для детей от 4 лет

Посчитай количество кубиков и покажи пальчиками, цифру которая получилась?



Тест на сложение

Сколько перцев изображено в первом квадратике, а сколько во втором? Покажи получившиеся цифры пальчиками.



Сколько кроликов изображено в первом квадратике, а сколько во втором? Покажи получившиеся цифры пальчиками.



Сколько яблок изображено в первом квадратике, а сколько во втором? Покажи получившиеся цифры пальчиками.



Сколько машинок изображено в первом квадратике, а во втором?



Тесты для детей от 4 лет

Сложи две цифры и назови результат.


$$1 + 1 = \square$$

Сложи две цифры и назови результат.

$$1 + 4 = \square$$

Тест на сравнение (длиннее, короче, выше, ниже, легче или тяжелее)

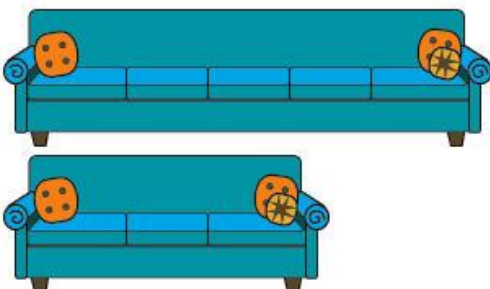
Какая такса, из изображённых на рисунке, длиннее?



Какая доска, из изображённых на рисунке, короче?




Какой диван длиннее, верхний или нижний?



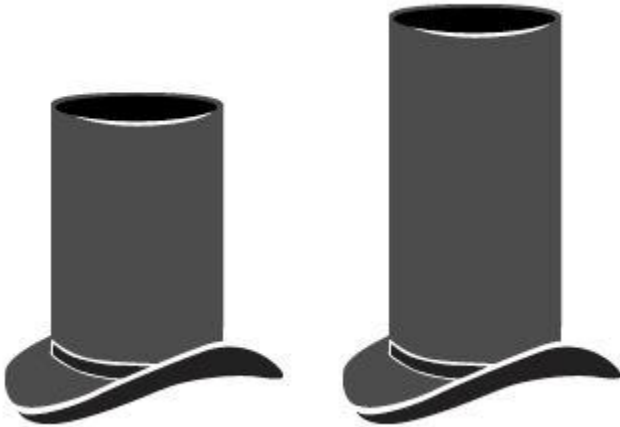
Дата: _____ Класс: _____ Имя: _____

Тесты для детей от 4 лет

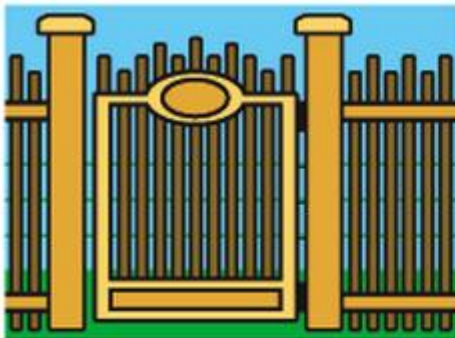
Какой автобус короче, нижний или верхний?



Какая шляпа выше, правая или левая?



Какой забор ниже, левый или правый?



Что тяжелее, телевизор или початок кукурузы?



Дата: _____ Класс: _____ Имя: _____

Тесты для детей от 4 лет

Что легче: яблоко или олень?



Тест на вычитание

Реши задачу, изображённую на рисунке: на столе лежало 3 помидора, 1 помидор забрали, чтобы приготовить салат. Сколько помидоров осталось?



$$3 - 1 = \square$$

Реши задачу, изображённую на рисунке: на лугу паслось 5 коров, 2 коровы пошли домой. Сколько коров осталось на лугу?



$$5 - 2 = \square$$

Дата: _____ Класс: _____ Имя: _____

Тесты для детей от 4 лет

Посмотри на рисунок, составь задачу, а затем, реши её.



$$4 - 3 = \square$$

Реши пример.

$$3 - 2 = \square$$