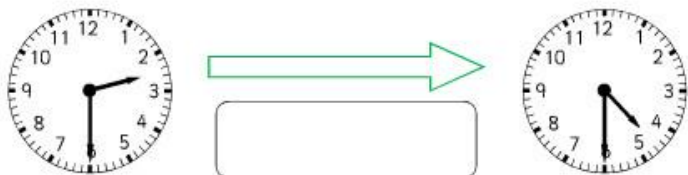




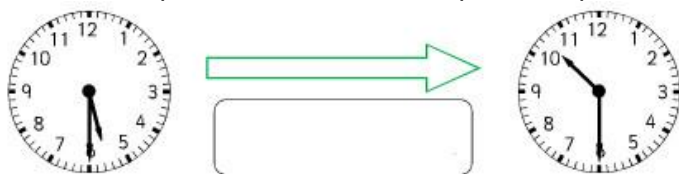
Тесты для детей 7 лет

Тесты на работу со временем – часы и минуты

На рисунке – 2 циферблата. В чем разница между левыми и правыми часами?



Учеба началась в то момент, который показывают левые часы. А закончилась, в тот момент, который показывают правые часы. Сколько времени продолжалась учеба?









Посмотри на часы и напиши цифрами, который час они показывают?





Дата: _____ Класс: _____ Имя: _____

Тесты для детей 7 лет



Нарисуй стрелки часов так, чтобы они соответствовали времени, указанному в прямоугольнике слева.



Нарисуй стрелки часов так, чтобы они соответствовали времени, указанному в прямоугольнике слева. Который час будут показывать стрелки через 2 часа, а через 6 часов? Который час показывали стрелки 4 часа назад?



Нарисуй стрелки часов так, чтобы они соответствовали времени, указанному в прямоугольнике слева. Который час будут показывать стрелки через 1 час 30 минут? Который час показывали стрелки 50 минут назад?



Дата: _____ Класс: _____ Имя: _____

Тесты для детей 7 лет

Произнеси и напиши словами.

9:45

10:15

7:45

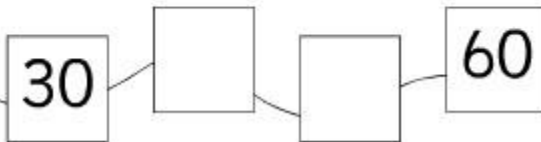
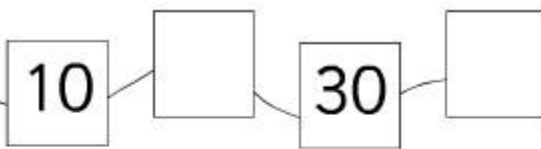
11:30

8:45

12.00

Тесты на работу с десятками

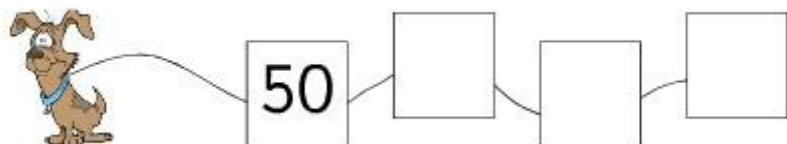
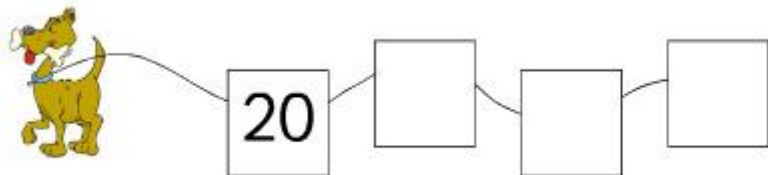
Заполни пропуски нужными десятками.



Дата: _____ Класс: _____ Имя: _____

Тесты для детей 7 лет

Заполни пропуски нужными десятками.



Тесты на сложение до 20

Сколько звездочек красного цвета изображено на картинке? Сколько всего звездочек изображено на картинке?



На шариках, с которыми играют пингвины изображены числа. Найди такие шарик, сумма чисел, которых равна 20.



Дата: _____ Класс: _____ Имя: _____

Тесты для детей 7 лет

Реши примеры на сложение:

$2 + 13 =$ $8 + 9 =$ $7 + 7 =$

$4 + 11 =$ $6 + 7 =$ $8 + 8 =$

$3 + 12 =$ $4 + 10 =$ $9 + 9 =$

$5 + 14 =$ $5 + 4 =$ $7 + 9 =$

Тесты на вычитание

Реши примеры на вычитание:

$12 - 6 =$ $18 - 3 =$ $17 - 5 =$


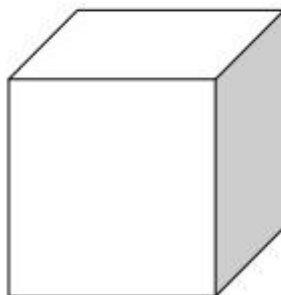

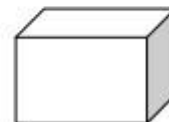
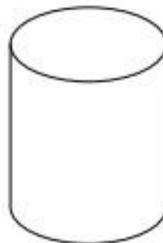
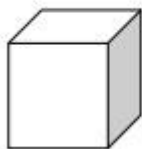
$14 - 5 =$ $6 - 4 =$ $18 - 9 =$

$13 - 8 =$ $14 - 10 =$ $19 - 9 =$

$15 - 3 =$ $15 - 4 =$ $15 - 9 =$

Тесты на распознавание геометрических фигур


Назови геометрические фигуры и геометрические тела, которые ты видишь на рисунке?



Тесты для детей 7 лет

Тесты на счет до 20

Обведи число, которое соответствует количеству фламинго в клетке.



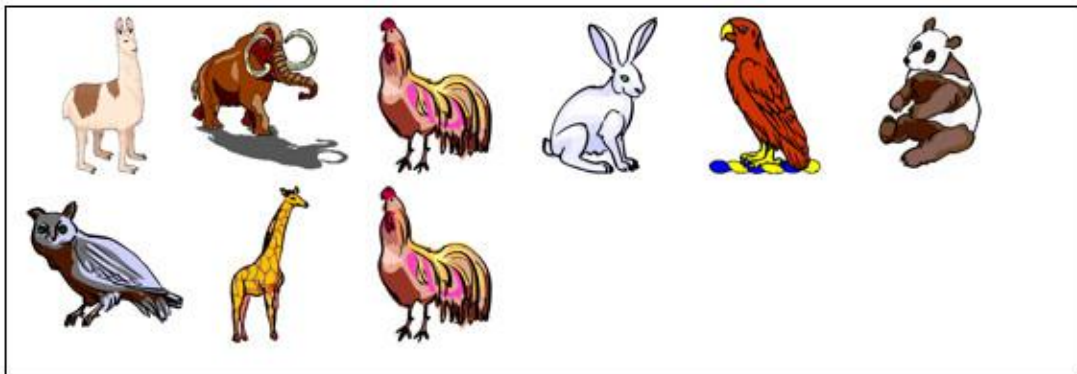
1 2 3 4 5 6 7 8 9 10

Обведи число, которое соответствует количеству страусов в клетке.



1 2 3 4 5 6 7 8 9 10

Обведи число, которое соответствует количеству животных в клетке. Обведи число, которое соответствует количеству птиц в клетке.




1 2 3 4 5 6 7 8 9 10

Дата: _____ Класс: _____ Имя: _____

Тесты для детей 7 лет

Сколько животных расположено в каждой



4

7

5

клетке?