

Дата: \_\_\_\_\_ Класс: \_\_\_\_\_ Имя: \_\_\_\_\_

## Задачи на темы: "Группировка предметов". "Деление чисел"

### Деление предметов на группы

1. Раздели кисточки на 2 равные группы. Сколько кисточек оказалось в каждой группе?



2. Раздели собак на 3 равные группы. Сколько собак оказалось в каждой группе?



3. Раздели расчески на 5 равных групп. Сколько расчесок оказалось в каждой группе?



4. Раздели чашки на 4 равные группы. Сколько чашек оказалось в каждой группе?



5. Раздели шляпы на 4 равные группы. Сколько шляп оказалось в каждой группе?



6. Раздели столы на 2 равные группы. Сколько столов оказалось в каждой группе?




7. Раздели книги на 4 равные группы. Сколько книг оказалось в каждой группе?



Дата: \_\_\_\_\_ Класс: \_\_\_\_\_ Имя: \_\_\_\_\_

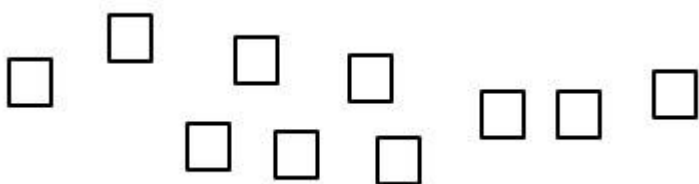
8. Раздели кружочки по 4 в каждой группе. Сколько групп получилось?



9. Раздели звездочки по 3 в каждой группе. Сколько групп получилось?



10. Раздели квадратики по 5 в каждой группе. Сколько групп получилось?



## Деление чисел от 1 до 10

11. Реши примеры на деление.

$4 : 2 =$

$2 : 1 =$

$9 : 3 =$

$2 : 2 =$

$4 : 1 =$

$6 : 2 =$

$8 : 2 =$

$3 : 3 =$

12. Поставь числа вместо подчеркивания.

$5 : \underline{\quad} = 1$

$\underline{\quad} : 3 = 2$

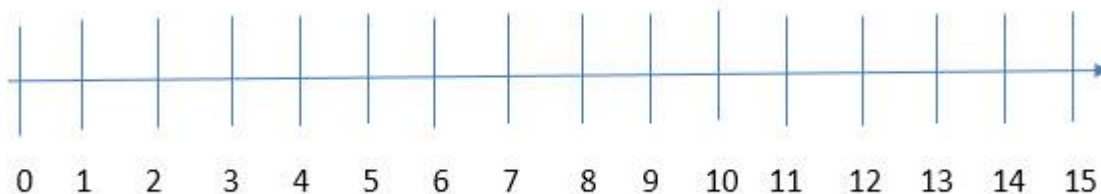
$\underline{\quad} : 2 = 5$

$\underline{\quad} : 2 = 2$

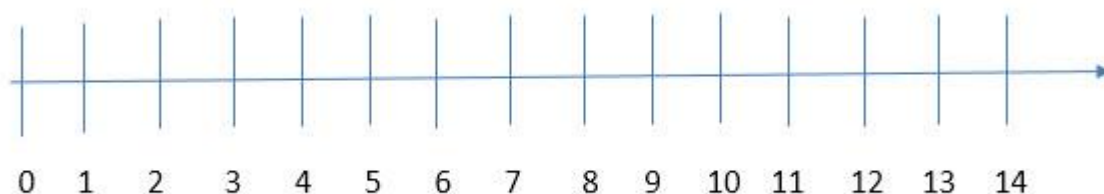
$8 : \underline{\quad} = 4$

$9 : \underline{\quad} = 3$

13. Раздели числовую прямую на 3 равные части. Чему равна каждая часть?

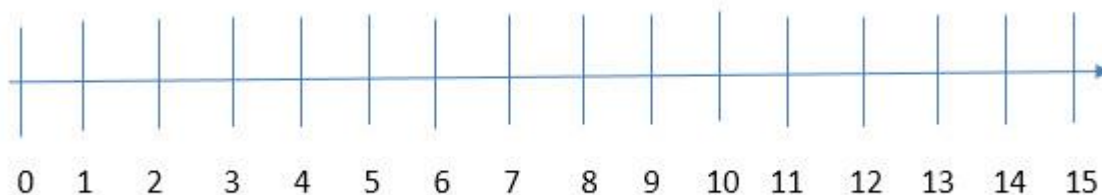


14. Раздели числовую прямую на 2 равные части. Чему равна каждая часть?



Дата: \_\_\_\_\_ Класс: \_\_\_\_\_ Имя: \_\_\_\_\_

15. Раздели числовую прямую на 5 равных частей. Чему равна каждая часть?



16. Текстовые задачи на деление

16.1. Маша и Петя разделили поровну 10 яблок между собой. Сколько яблок у Маши?

16.2. Учитель поделил 9 детей на 3 группы. Сколько детей оказалось в каждой группе?

16.3. 15 девочек играют в классики. Они разделились в группы по 3 девочки. Сколько всего групп получилось?

16.4. Наташа купила 4 фруктовых мороженных за 12 рублей. Сколько стоит одно мороженное?

16.5. Учитель разделил класс, в котором учится 21 ученика, на 7 групп. Сколько учеников оказалось в каждой группе?

17. Реши примеры и напиши ответы.

