

Дата: \_\_\_\_\_ Класс: \_\_\_\_\_ Имя: \_\_\_\_\_

## Задачи к учебникам Моро М.И. ("Школа России") и Петерсон Л.Г. ("Перспектива") на тему: "Измерение объема"

### 1. Реши примеры

$2 \text{ л} - 1 \text{ л} =$

$3 \text{ л} + 1 \text{ л} =$

$3 \text{ л} + 2 \text{ л} =$

$4 \text{ л} - 1 \text{ л} =$

$4 \text{ л} + 2 \text{ л} =$

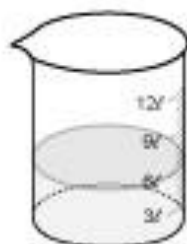


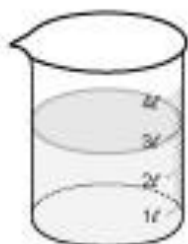
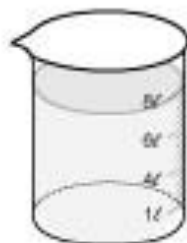
$4 \text{ л} - 3 \text{ л} =$

### 2. Оцени объемы предметов

2.1. Объем какого предмета больше? В какой предмет помещается меньше всего жидкости?



2.2. В колбах какого ряда налито больше жидкости?



Дата: \_\_\_\_\_ Класс: \_\_\_\_\_ Имя: \_\_\_\_\_

2.3. В какую емкость помещается больше жидкости?



2.4. В какую емкость помещается меньше жидкости?

