

МАТЕМАТИКА В ШКОЛЕ

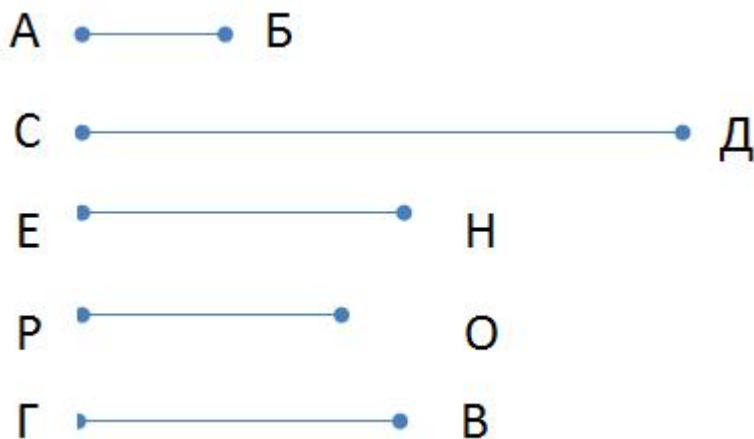
КОНТРОЛЬНЫЕ РАБОТЫ, ЗАДАЧИ, ТЕСТЫ, УРОКИ, РЕПЕТИТОРЫ ...

Математика для 1 класса

Задачи на тему: "Длина, масса и объем. Единицы измерения: метр, килограмм, литр"

Тема: "Длина и измерение длины в метрах"

1. Посмотри внимательно на рисунок. Выпиши:



Отрезок который самый длинный: _____

Отрезок который самый длинный: _____

Отрезки которые равны: _____

2. Измерь длину данного отрезка и запиши ответ в сантиметрах: $CD =$ _____



3. Измерь длину данного отрезка и запиши ответ в сантиметрах: $EH =$ _____



4. Измерь длину данного отрезка и запиши ответ в сантиметрах: $AB =$ _____



5. Измерь длину обоих отрезков и запиши их сумму в сантиметрах: $AB + CD =$ _____

МАТЕМАТИКА В ШКОЛЕ

КОНТРОЛЬНЫЕ РАБОТЫ, ЗАДАЧИ, ТЕСТЫ, УРОКИ, РЕПЕТИТОРЫ ...



6. Измерь длину обоих отрезков и запиши их сумму в сантиметрах: $EH + PO =$ _____



7. Начерти отрезок AB длиной 4 см.

8. Начерти отрезок AB длиной 7 см.

9. Начерти отрезок AB длиной 5 см.

10. Начерти отрезок AB длиной 2 см. и продолжи его на 3 см. Чему равна вся длина отрезка?

11. Начерти отрезок AB длиной 5 см. и продолжи его на 4 см. Чему равна вся длина отрезка?

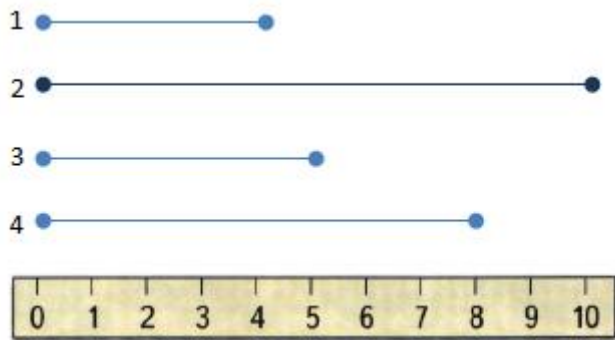
12. Начерти отрезок AB длиной 8 см. и укороти его на 3 см. Чему равна новая длина отрезка?

13. Начерти отрезок AB длиной 6 см. и укороти его на 2 см. Чему равна новая длина отрезка?

14. Посмотри внимательно на рисунок. Выпиши:

МАТЕМАТИКА В ШКОЛЕ

КОНТРОЛЬНЫЕ РАБОТЫ, ЗАДАЧИ, ТЕСТЫ, УРОКИ, РЕПЕТИТОРЫ ...



Отрезок, который самый длинный: _____. Его длина равна: _____ см.

Отрезок, который самый длинный: _____. Его длина равна: _____ см.

Отрезки, которые равны: _____ и _____

МАТЕМАТИКА В ШКОЛЕ

КОНТРОЛЬНЫЕ РАБОТЫ, ЗАДАЧИ, ТЕСТЫ, УРОКИ, РЕПЕТИТОРЫ ...

Тема: "Масса, вес и измерение массы в килограммах"

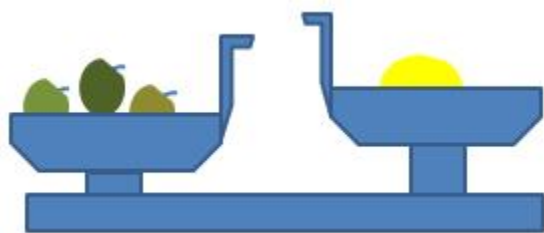
1. Посмотрите на рисунок и скажите:



Чему равен вес мешочка муки?



Чему равен вес мешочка сахара?



Что тяжелее яблоки или апельсин?

2. Выполни вычитание:

$2 \text{ кг} - 1 \text{ кг} =$

$3 \text{ кг} - 1 \text{ кг} =$

$3 \text{ кг} - 2 \text{ кг} =$

$4 \text{ кг} - 1 \text{ кг} =$

$4 \text{ кг} - 2 \text{ кг} =$

$4 \text{ кг} - 3 \text{ кг} =$

3. Решите задачу:

Пакет апельсинов весит 6 кг, а мешок яблок на 3 кг меньше. Сколько весит мешок яблок?

МАТЕМАТИКА В ШКОЛЕ

КОНТРОЛЬНЫЕ РАБОТЫ, ЗАДАЧИ, ТЕСТЫ, УРОКИ, РЕПЕТИТОРЫ ...

Тема: "Объем и измерение объема в литрах"

1. Выполни вычисления:

$2 \text{ л} - 1 \text{ л} =$

$3 \text{ л} + 1 \text{ л} =$

$3 \text{ л} + 2 \text{ л} =$

$4 \text{ л} - 1 \text{ л} =$

$4 \text{ л} + 2 \text{ л} =$

$4 \text{ л} - 3 \text{ л} =$