

# МАТЕМАТИКА В ШКОЛЕ

КОНТРОЛЬНЫЕ РАБОТЫ, ЗАДАЧИ, ТЕСТЫ, УРОКИ, РЕПЕТИТОРЫ ...


## Математика для 1 класса

### Тема: "Геометрические фигуры: треугольник, круг, прямоугольник"

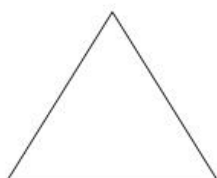
1. Как называется следующая фигура? Напишите её название: \_\_\_\_\_




2. Как называется следующая фигура? Напишите её название: \_\_\_\_\_



3. Как называется следующая фигура? Напишите её название: \_\_\_\_\_



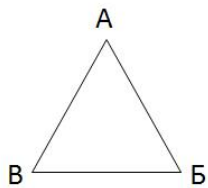
4. Сколько треугольников на рисунке: \_\_\_\_\_



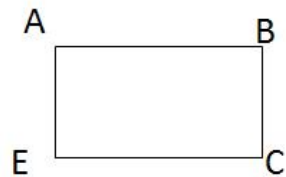
# МАТЕМАТИКА В ШКОЛЕ

КОНТРОЛЬНЫЕ РАБОТЫ, ЗАДАЧИ, ТЕСТЫ, УРОКИ, РЕПЕТИТОРЫ ...

5. Измерь длину каждой из сторон треугольника и напиши ответы: \_\_\_\_\_



6. Измерь длину каждой из сторон прямоугольника и напиши ответы: \_\_\_\_\_



7. Нарисуй красный прямоугольник со сторонами, равными 3 и 5 см.

8. Нарисуй синий прямоугольник со сторонами, равными 4 и 8 см.

9. Нарисуй черный прямоугольник со сторонами, равными 5 и 2 см.

10. Нарисуй красный треугольник со сторонами, равными 5, 5 и 2 см.

11. Нарисуй синий треугольник со сторонами, равными 4, 6 и 5 см.

12. Нарисуй черный треугольник со сторонами, равными 2, 6 и 5 см.