

МАТЕМАТИКА В ШКОЛЕ

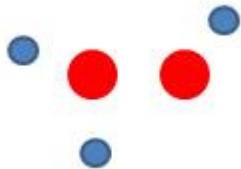
КОНТРОЛЬНЫЕ РАБОТЫ, ЗАДАЧИ, ТЕСТЫ, УРОКИ, РЕПЕТИТОРЫ ...

Математика для 1 класса

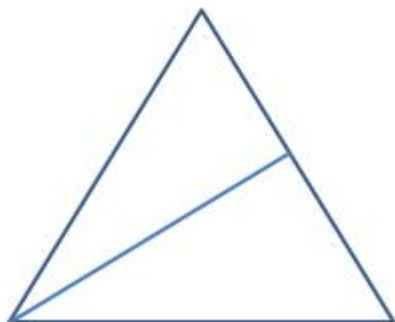
Задачи на тему: "Счет предметов, нумерация чисел"

Тема: "Счет предметов и нумерация до 5"

1. Напиши цифру, которая следует за цифрой 1
2. Напиши цифру, которая следует за цифрой 3
3. Напиши цифру, которая следует перед цифрой 2
4. Напиши цифру, которая следует перед цифрой 3
5. Напиши цифру, которая следует за цифрой 4
6. Напиши цифру, которая следует перед цифрой 5
7. Посчитай количество синих кружков:



8. Нарисуй столько кружочков, сколько соответствует цифре 3.
9. Сколько треугольников нарисовано на рисунке?



МАТЕМАТИКА В ШКОЛЕ

КОНТРОЛЬНЫЕ РАБОТЫ, ЗАДАЧИ, ТЕСТЫ, УРОКИ, РЕПЕТИТОРЫ ...

10. Продолжи этот ряд так, чтобы получилась правильная последовательность знаков.

- + / -

11. Продолжи этот ряд так, чтобы получилась правильная последовательность знаков.

(= # (

12. Напиши цифры от трёх до единицы. Какое из этих цифр наименьшее? А какое наибольшее?

13. Сколько получится, если от трех вычесть два?

3. Восстанови правильный ряд вставив пропущенные числа:

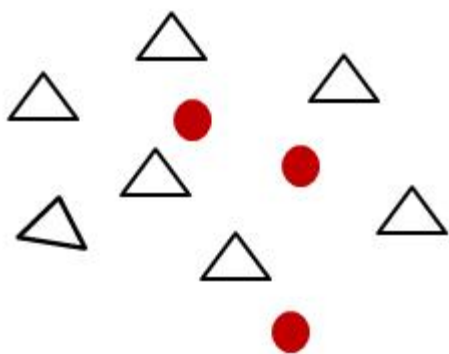
1 ... 2 ... 3 ... 4 ... 5 ... 4 1

МАТЕМАТИКА В ШКОЛЕ


КОНТРОЛЬНЫЕ РАБОТЫ, ЗАДАЧИ, ТЕСТЫ, УРОКИ, РЕПЕТИТОРЫ ...

Тема: "Счет предметов и нумерация от 0 до 9"

1. Напиши цифру, которая следует за цифрой 8
2. Напиши цифру, которая следует за цифрой 7
3. Напиши цифру, которая следует перед цифрой 9
4. Напиши цифру, которая следует перед цифрой 6
5. Напиши цифру, которая следует за цифрой 5
6. Напиши цифру, которая следует перед цифрой 1
7. Посчитай количество треугольников:



8. Нарисуй столько квадратов, сколько соответствует цифре 8.
9. Сколько кружков нарисовано на рисунке?



10. Допиши этот ряд так, чтобы получилась правильная последовательность чисел.

МАТЕМАТИКА В ШКОЛЕ

КОНТРОЛЬНЫЕ РАБОТЫ, ЗАДАЧИ, ТЕСТЫ, УРОКИ, РЕПЕТИТОРЫ ...

6 7 4 6 7 4 ... -

11. Допиши этот ряд так, чтобы получилась правильная последовательность чисел.

1 9 6 1 9 6 ...

12. Напиши цифры от девяти до пяти. Какое из этих цифр наименьшее? А какое наибольшее?

13. Сколько получится, если от девяти вычесть пять?

14. Сколько получится, если от восьми вычесть три?

15. Сколько получится, если от пяти вычесть пять?

16. Сколько получится, если от семи вычесть ноль?

17. Восстанови правильный ряд вставив пропущенные числа:

1 5 9 8 4 1

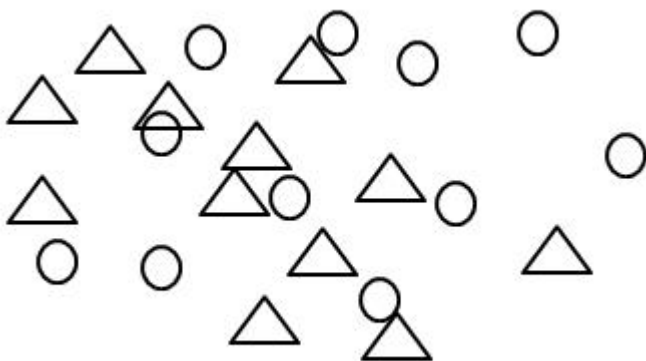
1 5 8 9 4

МАТЕМАТИКА В ШКОЛЕ

КОНТРОЛЬНЫЕ РАБОТЫ, ЗАДАЧИ, ТЕСТЫ, УРОКИ, РЕПЕТИТОРЫ ...

Тема: "Счет предметов и нумерация от 10 до 20"

1. Напиши цифру, которая следует за цифрой 15
2. Напиши цифру, которая следует за цифрой 17
3. Напиши цифру, которая следует перед цифрой 19
4. Напиши цифру, которая следует перед цифрой 16
5. Напиши цифру, которая следует за цифрой 15
6. Напиши цифру, которая следует перед цифрой 11
7. Посчитай количество кружков и треугольников и запишите правильный ответ:



Кружков: _____

Треугольников: _____

8. Нарисуй столько квадратов, сколько соответствует цифре 15.
9. Нарисуй столько кружков, сколько соответствует цифре 18.
10. Допиши этот ряд так, чтобы получилась правильная последовательность чисел.

МАТЕМАТИКА В ШКОЛЕ

КОНТРОЛЬНЫЕ РАБОТЫ, ЗАДАЧИ, ТЕСТЫ, УРОКИ, РЕПЕТИТОРЫ ...

16 17 14 16 17 14 ... -

11. Допиши этот ряд так, чтобы получилась правильная последовательность чисел.

11 19 16 11 19 16 ...

12. Напиши цифры от девяти до пяти. Какое из этих цифр наименьшее? А какое наибольшее?

13. Сколько получится, если от пятнадцати вычесть пять?

14. Сколько получится, если от восемнадцати вычесть три?

15. Сколько получится, если от тринадцати вычесть пять?

16. Сколько получится, если от девятнадцати вычесть ноль?

17. Восстанови правильный ряд вставив пропущенные числа:

11 15 17

18 14

13 18

19 14