

# МАТЕМАТИКА В ШКОЛЕ

КОНТРОЛЬНЫЕ РАБОТЫ, ЗАДАЧИ, ТЕСТЫ, УРОКИ, РЕПЕТИТОРЫ ...

## Математика для 1 класса

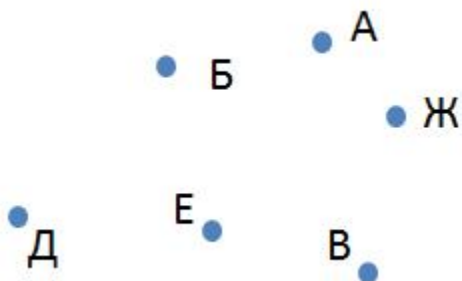
Задачи на тему: "Отрезок, прямая линия, кривая линия, точка"

Тема: "Точка"

1. Как называется фигура на рисунке?



2. Выпишите названия точек, которые находятся на рисунке?



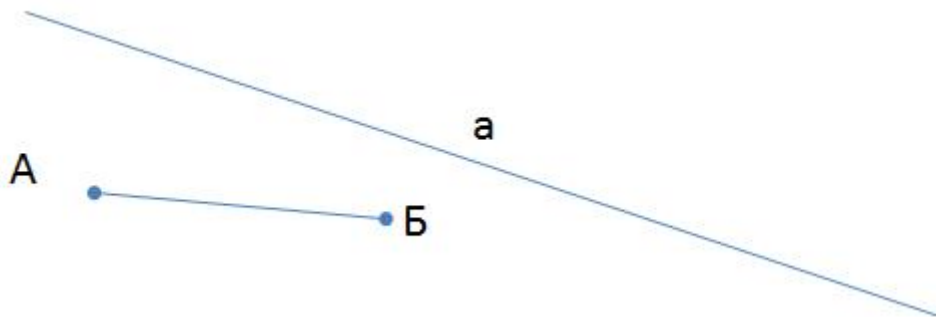
3. Нарисуй точки А, Б и С?

# МАТЕМАТИКА В ШКОЛЕ


КОНТРОЛЬНЫЕ РАБОТЫ, ЗАДАЧИ, ТЕСТЫ, УРОКИ, РЕПЕТИТОРЫ ...

## Тема: "Отрезок, линия"

1. Какой из фигур называется отрезком, а какой линией?

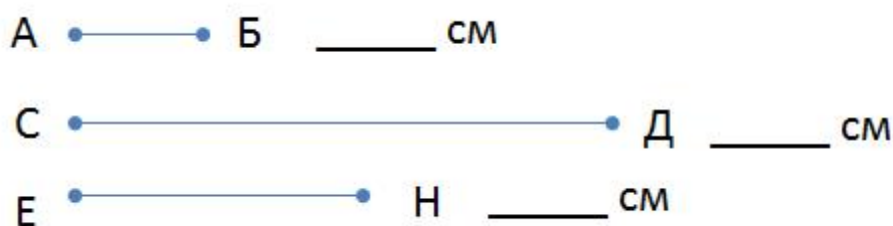


2. Какой из отрезков самый длинный, а какой из отрезков самый короткий?



3. Начертите отрезки длиной 3 см, 5 см, 6 см.

4. Измерьте длину всех отрезков и напишите ответы:

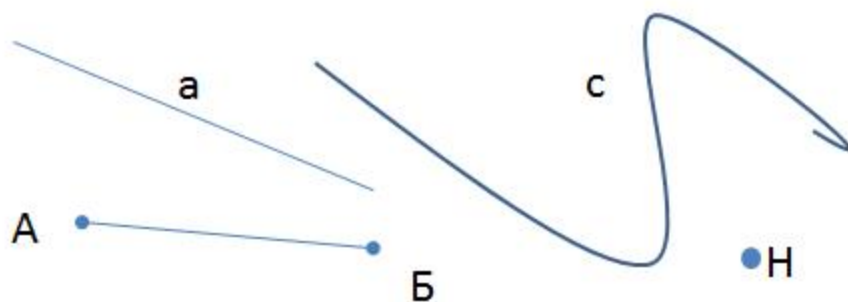


# МАТЕМАТИКА В ШКОЛЕ

КОНТРОЛЬНЫЕ РАБОТЫ, ЗАДАЧИ, ТЕСТЫ, УРОКИ, РЕПЕТИТОРЫ ...

Тема: "Отрезок, прямая линия, кривая линия, точка"

1. Назови каждую из данных фигур?



2. Какие из данных отрезков одинаковой длины?

