

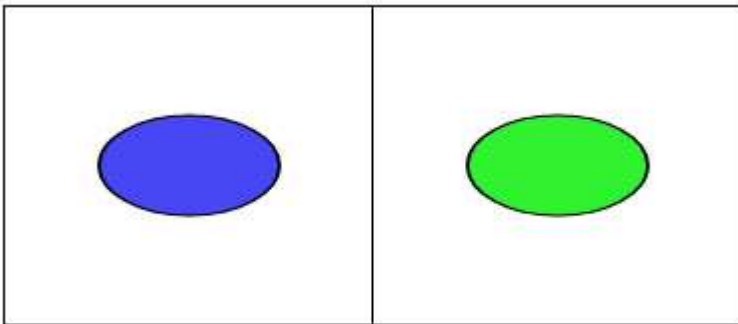
Расположение предметов на плоскости и в пространстве: слева, справа, выше, ниже, спереди, сзади, после, между.

## 1. Расположение: слева, справа, по середине



1.1. Какой предмет находится с права, подарок или расческа?



1.2. С какой стороны расположен зеленый овал? А с какой синий?



1.3. Допиши правильное слово. Желтый квадрат находится \_\_\_\_\_ синего треугольника.




1.4. Где расположен оранжевый треугольник? А где находится желтый треугольник?.

[Введите текст]

# МАТЕМАТИКА В ШКОЛЕ

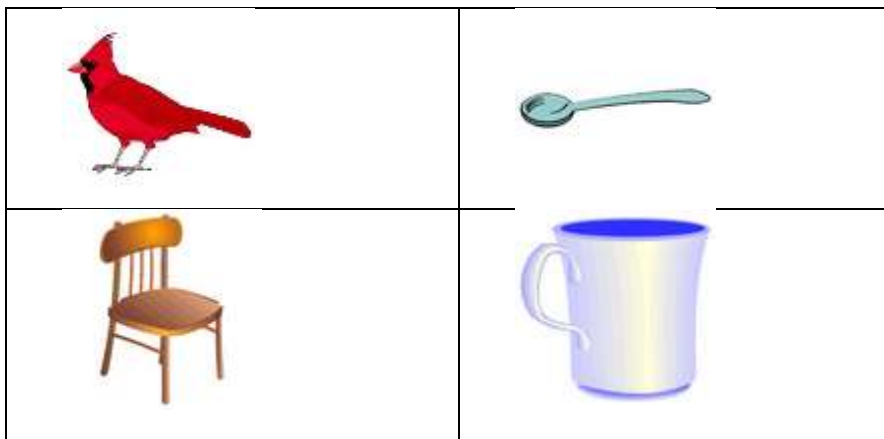
КОНТРОЛЬНЫЕ, САМОСТОЯТЕЛЬНЫЕ, ДОМАШНИЕ ЗАДАНИЯ, ЗАДАЧИ, УРОКИ ...



1.5. Где находится рукавица? Слева или справа?



1.6. Какие предметы находятся слева?




1.7. Какие предметы находятся справа?






[Введите текст]

## 2. Расположение: выше, ниже, в середине

2.1. Какая фигура, находится в середине? А какая на самом верху?



2.2. Зеленый квадрат находится выше или ниже круга?



2.3. Где находится корзина?

[Введите текст]

# МАТЕМАТИКА В ШКОЛЕ

КОНТРОЛЬНЫЕ, САМОСТОЯТЕЛЬНЫЕ, ДОМАШНИЕ ЗАДАНИЯ, ЗАДАЧИ, УРОКИ ...




2.4. Какой предмет находится выше мобильного телефона? А какой предмет находится ниже ручки?



2.5. Какая фигура в самом низу? А в середине?

[Введите текст]



### 3. Слева, справа, по середине, выше или ниже

3.1. Какой предмет находится в нижнем левом углу? А какой предмет находится в верхнем левом углу?



3.2. Где расположен ключ? А где расположен цветок? В какой клеточке находится попугай?

[Введите текст]

# МАТЕМАТИКА В ШКОЛЕ

КОНТРОЛЬНЫЕ, САМОСТОЯТЕЛЬНЫЕ, ДОМАШНИЕ ЗАДАНИЯ, ЗАДАЧИ, УРОКИ ...



3.3. Покажи, где собака и назови, в какой клетке она находится? А где находится гусь?



3.4. Какой предмет находится в верхнем правом углу? А какой находится в верхнем левом углу?




3.5. Какой предмет находится в середине, а внизу? А какой предмет находится справа в середине?


[Введите текст]

# МАТЕМАТИКА В ШКОЛЕ

КОНТРОЛЬНЫЕ, САМОСТОЯТЕЛЬНЫЕ, ДОМАШНИЕ ЗАДАНИЯ, ЗАДАЧИ, УРОКИ ...



3.6. Какая фигура в центре? Где находится звездочка? А ромбик? А квадрат?



## Ответы на задачи

---

- 1.1. Расчёска.
- 1.2. Зеленый овал расположен справа, синий овал расположен слева.
- 1.3. Правее.
- 1.4. Оранжевый треугольник расположен в середине. Желтый треугольник расположен справа.
- 1.5. Рукавицы находятся слева.

- 2.1. В середине находится овал. На самом верху синяя звезда.
- 2.2. Зелёный квадрат выше круга.
- 2.3. Корзина находится на самом верху.

[Введите текст]

# МАТЕМАТИКА В ШКОЛЕ

КОНТРОЛЬНЫЕ, САМОСТОЯТЕЛЬНЫЕ, ДОМАШНИЕ ЗАДАНИЯ, ЗАДАЧИ, УРОКИ ...

2.4. Выше мобильного телефон находится ручка. Ниже ручки находится мобильный телефон.

2.5. В самом низу находится желтая звезда. В середине находится круг.

3.1. Лев, автомобиль.

3.2. Ключ находится справа по середине.

3.3. Собака находится в нижнем ряду слева.

3.4. Гусь, обезьяна.

3.5. Сумка, диван.

3.6. Круг. Звезда находится в верхнем ряду справа. Ромб - в нижнем ряду слева. Квадрат в нижнем ряду по середине.

[Введите текст]