

Дата: _____ Класс: _____ Имя: _____


Задачи на темы: "Деление чисел". "Нахождение частного, делимого, делителя". "Текстовые задачи на деление"

Деление предметов на равные группы

1. Раздели стулья на группы по 3 стула в каждой. Сколько всего групп получилось?



2. Раздели уток на группы по 5 птиц в каждой. Сколько всего групп получилось?




3. Раздели собак на группы по 4 собаки в каждой. Сколько всего групп получилось?



4. Раздели яблоки на группы по 6 штук в каждой. Сколько всего групп получилось?



5. Раздели автомобили на 3 равные группы. Сколько групп получилось?



Дата: _____ Класс: _____ Имя: _____

Деление чисел от 1 до 30

6. Реши примеры на деление и подчеркни делимое.

$15 : 3 =$

$21 : 7 =$

$16 : 4 =$

7. Реши примеры на деление и подчеркни делитель:

$18 : 6 =$

$25 : 5 =$

$24 : 3 =$


8. Реши примеры на деление и подчеркни частное:

$10 : 5 =$

$28 : 4 =$

$20 : 4 =$






9. Раздели кружочки на 7 групп. Сколько всего кружочков оказалось в каждой группе?



10. Раздели квадратики на 10 групп. Сколько всего квадратиков оказалось в каждой группе?



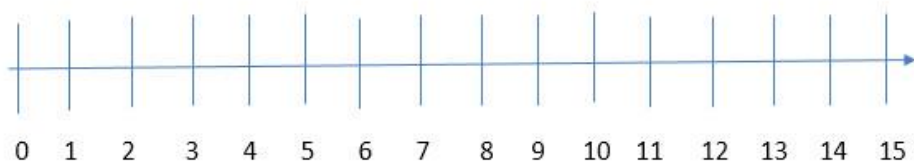
11. Напиши делимое и реши примеры.

	___ : 2 = ?
	___ : 3 = ?
	___ : 4 = ?
	___ : 5 = ?
	___ : 6 = ?

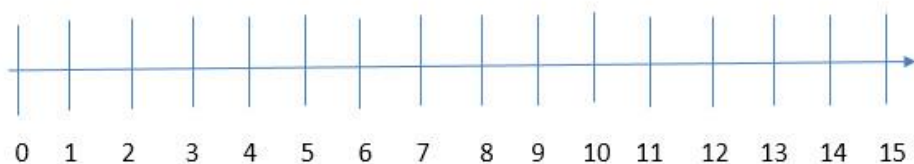
Дата: _____ Класс: _____ Имя: _____

12. Используя числовую прямую, реши примеры на деление.

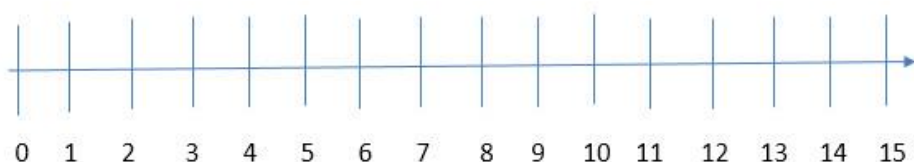
$15 : 3 =$



$12 : 4 =$



$14 : 2 =$



13. Реши примеры.

$2 : 1 =$

$2 : 2 =$

$3 : 3 =$

$3 : 1 =$

$4 : 1 =$

$4 : 2 =$

$4 : 4 =$

$5 : 1 =$

$5 : 5 =$

$6 : 1 =$

$6 : 2 =$

$6 : 3 =$

$1 : 1 =$

$2 : 2 =$

$3 : 3 =$

$4 : 4 =$

$3 : 1 =$

$4 : 2 =$

$6 : 3 =$

$8 : 4 =$

$6 : 1 =$

$6 : 2 =$

$9 : 3 =$

$12 : 4 =$

$9 : 1 =$

$8 : 2 =$

$12 : 3 =$

$16 : 4 =$

$12 : 1 =$

$10 : 2 =$

$15 : 3 =$

$5 : 5 =$

$15 : 1 =$

$12 : 2 =$

$18 : 3 =$

$10 : 5 =$

Дата: _____ Класс: _____ Имя: _____

14. Заполни пропуски числами.

$6 : _ = 6$

$2 : _ = 1$

$3 : _ = 1$

$4 : 4 = _$

$9 : _ = 3$

$_ : 2 = 3$

$_ : 3 = 2$

$8 : _ = 2$

$_ : 5 = 2$

$6 : _ = 2$

$9 : _ = 3$

$_ : 4 = 3$

$8 : 2 = _$

$_ : 4 = 3$

$12 : _ = 4$

$16 : _ = 4$

$_ : 1 = 7$

$10 : _ = 5$

$_ : 3 = 5$

$5 : _ = 1$

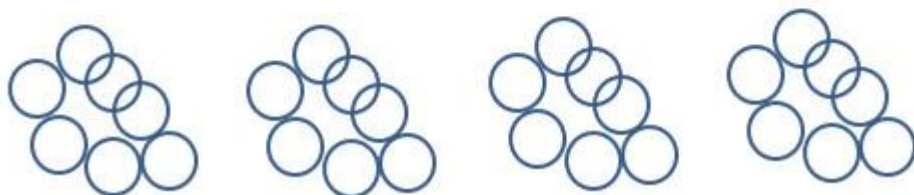
$15 : 3 = _$

$_ : 2 = 6$

$18 : _ = 3$

$_ : 5 = 2$

15. Составь числовое выражение на деление к каждому рисунку.



Дата: _____ Класс: _____ Имя: _____

16. Текстовые задачи на деление

16.1. В больницу привезли 48 рулонов бинтов. Бинты упакованы в пачки по 8 штук в каждой. Сколько пачек с бинтами привезли в больницу?

16.2. Лесники засадили участок земли молодыми саженцами. Всего получилось 9 рядов деревьев. Сколько деревьев было посажено в каждом ряду, если всего было посажено 72 дерева?

16.3. Школьный повар разложил 35 пирожков на 7 тарелок. Сколько пирожков оказалось в каждой тарелке?

16.4. Ребята из 2 класса пошли в музей. Они шли по 2 человека в ряду. Сколько рядов получилось, если в классе учится 24 школьника? Сколько рядов получится, если идти по 3 человека в ряду, а если по 4 человека в ряду?

16.5. На склад привезли 56 кг картошки. Их надо разложить в 8 мешков. Сколько кг картошки надо положить в каждый мешок?

16.6. В школу надо завести 81 стол. За один раз машина может привезти только 9 столов. Сколько нужно сделать рейсов, чтобы привезти все столы?

16.7. Рыбак поймал 64 кг рыбы и разложил их в 8 ящиков. Сколько кг рыбы поместилось в каждый ящик?