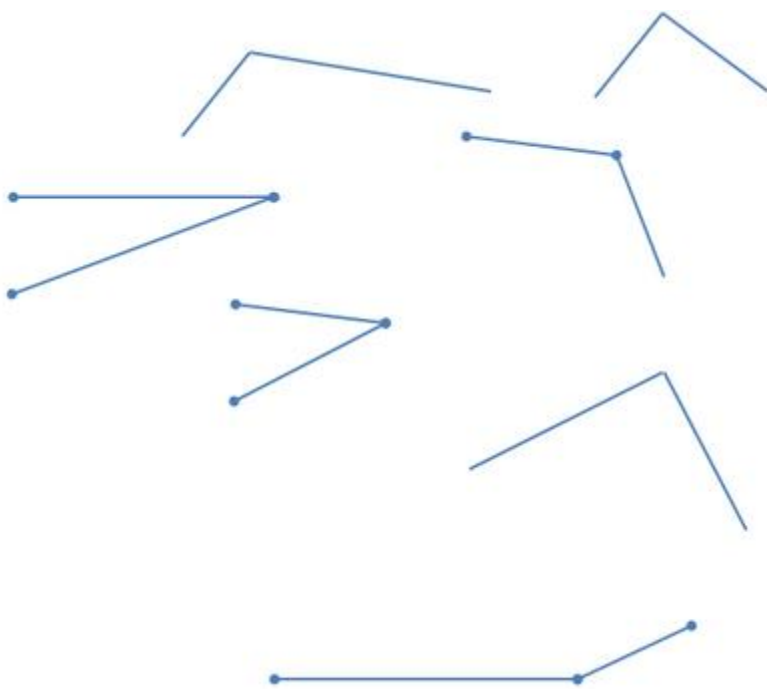


2 класс, углы

Виды углов: острый, прямой, тупой угол

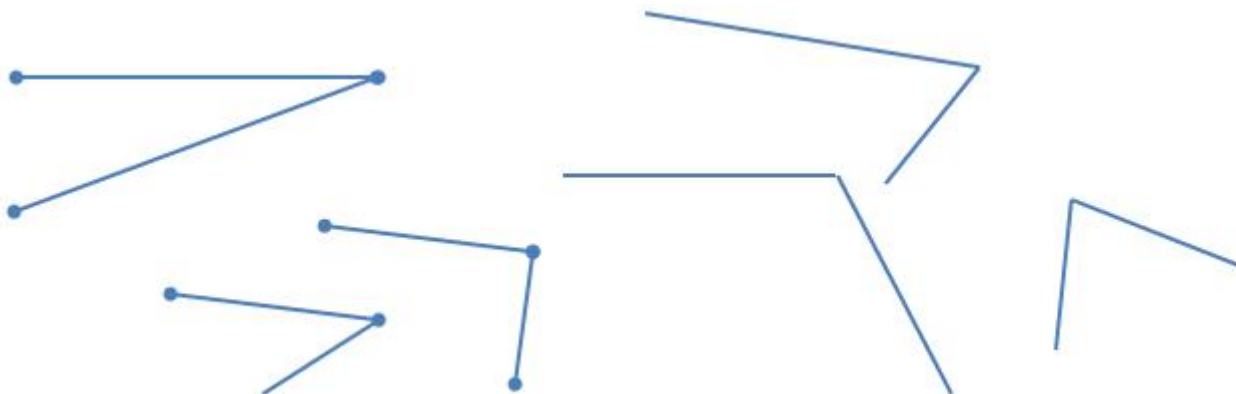
Углы

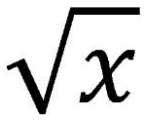
1. Отметь на данном рисунке все тупые углы буквой "Т", буквой "О" все острые углы, буквой "П" все прямые углы.



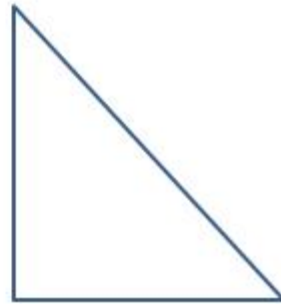
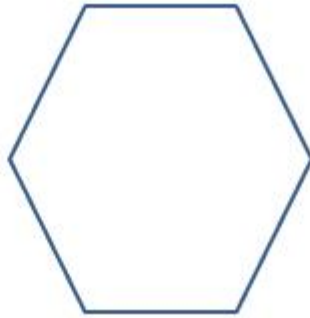

2. Внимательно посмотри на данный рисунок и определи:

- Сколько тупых углов на рисунке?
- Сколько острых углов?
- Сколько прямых углов?





3. Отметь буквой "Т" все тупые углы, буквой "О" все острые углы, буквой "П" все прямые углы. Посчитай, сколько всего углов каждого типа и запишите



4. Нарисуй два произвольных острых угла.

5. Нарисуй один прямой угол и один тупой угол.

6. Нарисуй два треугольника с прямыми углами. Какие у них остальные углы (острые или тупые)?