

## 2 класс, многоугольники

### Обозначение и периметр многоугольников

#### Многоугольники

1. Назови данные фигуры одним словом. Сможешь ли ты назвать каждую из фигур правильно?:

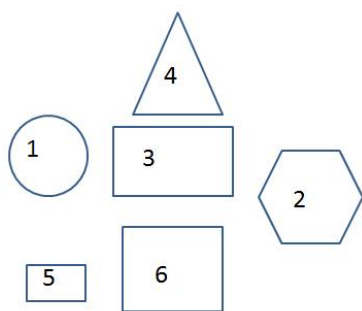


2. Нарисуй произвольный треугольник и напиши его название под рисунком. Сможешь отметить правильно его вершины?

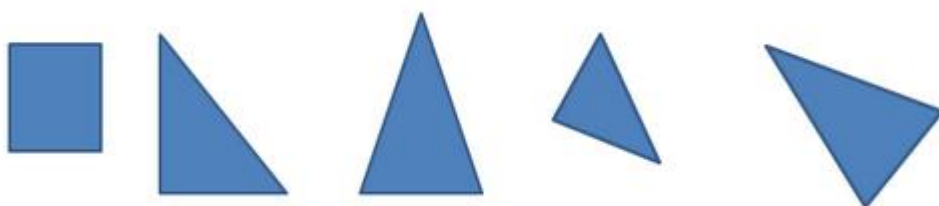
3. Нарисуй произвольный четырёхугольник и напиши его название под рисунком. Сможешь отметить правильно его вершины?

4. Нарисуй произвольный пятиугольник и напиши его название под рисунком. Отметь его вершины.

5. Укажи среди данных фигур треугольник и квадрат:



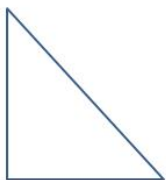
6. Укажи, какая среди данных фигур лишняя:





### Периметр многоугольника

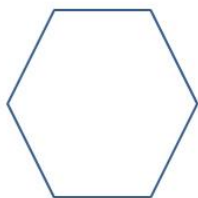
1. Измерь каждую сторону многоугольника и вычисли его периметр в миллиметрах.




2. Измерь каждую сторону многоугольника и вычисли его периметр:



3. Измерь каждую сторону многоугольника и вычисли его периметр:



4. Нарисуй подобные многоугольники и измерь длину каждой стороны. Вычисли их периметр.





5. Сравни данные многоугольники. Вычисли их периметр. Чей периметр длиннее?

