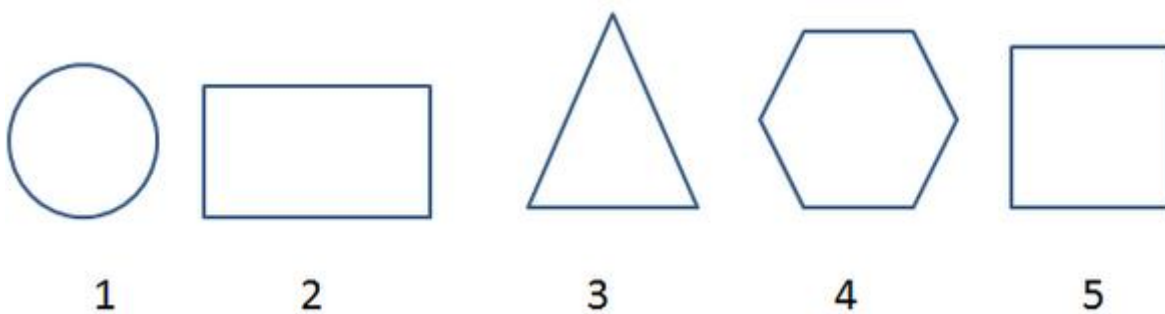


Математика – 2 класс

Периметр и площадь прямоугольника и квадрата

Прямоугольник

1. Какие из заданных геометрических фигур называются прямоугольниками. Обведи правильную фигуру.



2. Нарисуй красный прямоугольник размером 4 и 6 см.

3. Нарисуй синий прямоугольник размером 3 и 5 см.

4. Нарисуй черный прямоугольник размером 7 и 4 см.

5. Измерь стороны данного четырехугольника и напиши их в миллиметрах.



6. Измерь стороны данного четырехугольника и напиши их в миллиметрах.



МАТЕМАТИКА В ШКОЛЕ

КОНТРОЛЬНЫЕ РАБОТЫ, ЗАДАЧИ, ТЕСТЫ, УРОКИ, РЕПЕТИТОРЫ ...

7. Измерь стороны данного четырехугольника и напиши их в миллиметрах.



8. Сколько прямоугольников сможешь насчитать на данном рисунке?



Периметр прямоугольника

1. Измерь стороны заданного прямоугольника, за тем вычисли его периметр?



МАТЕМАТИКА В ШКОЛЕ

КОНТРОЛЬНЫЕ РАБОТЫ, ЗАДАЧИ, ТЕСТЫ, УРОКИ, РЕПЕТИТОРЫ ...

2. Измерь стороны заданного прямоугольника, за тем вычисли его периметр?



3. Вычисли периметр прямоугольника, если две стороны его равны 10 см, а другие стороны равны 8 см?

4. Чему равен периметр прямоугольника, если две стороны его равны 40 мм, а две другие стороны равны 20 мм? Ответ напиши в миллиметрах и сантиметрах.

5. Сравни периметры данных фигур. Чей периметр длиннее - прямоугольника или четырёхугольника?



Тема: "Квадрат"

1. Какие из заданных геометрических фигур называются квадратами. Обведи правильную фигуру.



1




2



3



4



5

МАТЕМАТИКА В ШКОЛЕ

КОНТРОЛЬНЫЕ РАБОТЫ, ЗАДАЧИ, ТЕСТЫ, УРОКИ, РЕПЕТИТОРЫ ...

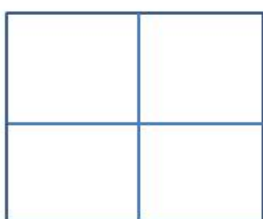
2. Нарисуй квадрат, периметр которого равен 20 см. Чему равны его стороны?
3. Нарисуй квадрат, периметр которого равен 32 см. Чему равны его стороны?
4. Вычисли периметр квадрата со стороной 7 см.
5. Измерь стороны квадрата. Сможешь найти его периметр?



6. Измерь стороны квадрата. Сможешь найти его периметр?



7. Сколько квадратов нарисовано на данном рисунке?



8. Дорисуй (дополни) данные фигуры до квадрата или прямоугольника?



МАТЕМАТИКА В ШКОЛЕ

КОНТРОЛЬНЫЕ РАБОТЫ, ЗАДАЧИ, ТЕСТЫ, УРОКИ, РЕПЕТИТОРЫ ...

Периметр квадрата

1. Вычисли периметр квадрата со стороной 6 см?

2. Измерь периметр данного квадрата?



3. Нарисуй квадрат со стороной 4 см. Рассчитай его периметр и площадь.

4. Нарисуй квадрат, у которого периметр равен 20 см.