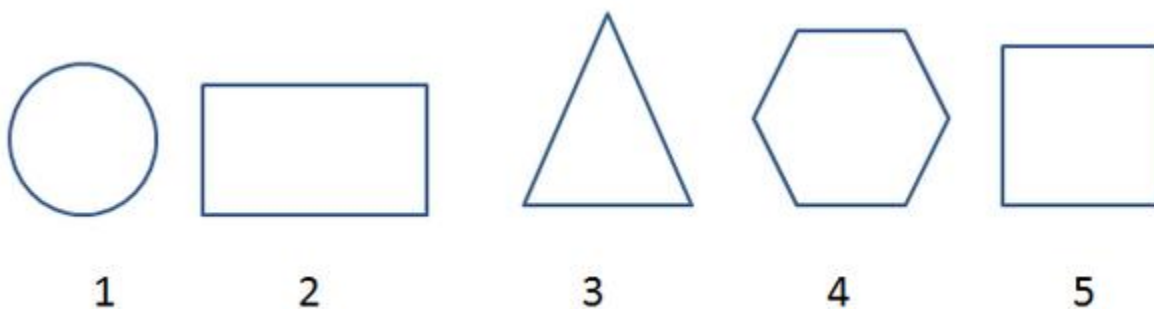


Математика для 2 класса

Треугольник, нахождение периметра треугольника

Треугольник

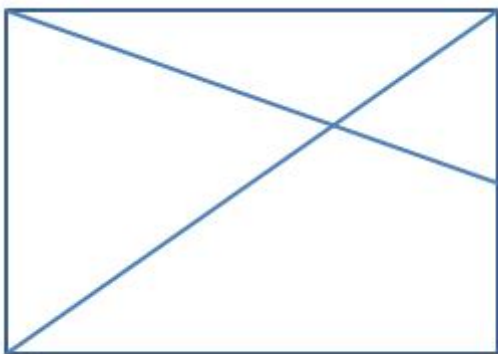
1. Обведи карандашом те геометрические фигуры, которые называются треугольником.



2. Сможешь нарисовать треугольник со сторонами 4 и 6 см? Длину третьей стороны можешь взять любую.

3. Попробуй нарисовать треугольник со сторонами 3 и 5 см. Длина третьей стороны - любая.

4. Посчитай, сколько треугольников начерчено здесь?



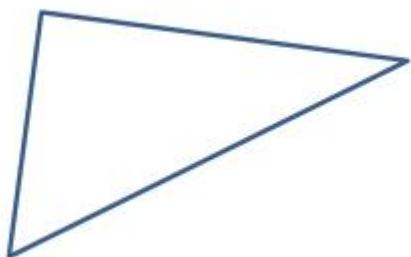
5. Измерь стороны данного треугольника и напиши их в миллиметрах.

МАТЕМАТИКА В ШКОЛЕ

КОНТРОЛЬНЫЕ РАБОТЫ, ЗАДАЧИ, ТЕСТЫ, УРОКИ, РЕПЕТИТОРЫ ...



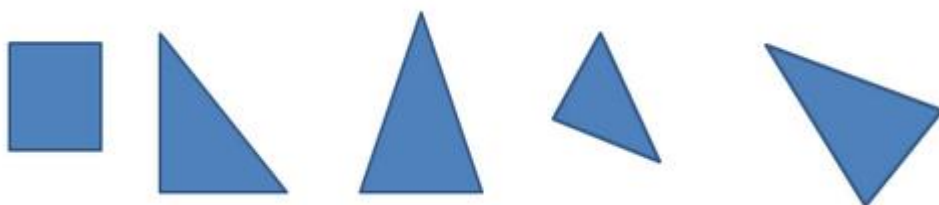
6. Измерь каждую сторону данного треугольника и запиши их в миллиметрах.



7. Измерь каждую сторону данного треугольника и запиши их в миллиметрах.



8. Определи, какая фигура лишняя?




9. Нарисуй два треугольника рядом таким образом, чтобы одна сторона у треугольников была общая?

10. Попробуй нарисовать от руки равносторонний треугольник.

МАТЕМАТИКА В ШКОЛЕ

КОНТРОЛЬНЫЕ РАБОТЫ, ЗАДАЧИ, ТЕСТЫ, УРОКИ, РЕПЕТИТОРЫ ...

11. Попробуй разделить данный треугольник двумя отрезками таким образом, чтобы получилось 5 треугольников.



12. Как нарисовать внутри данного треугольника равносторонний треугольник.



Периметр треугольника

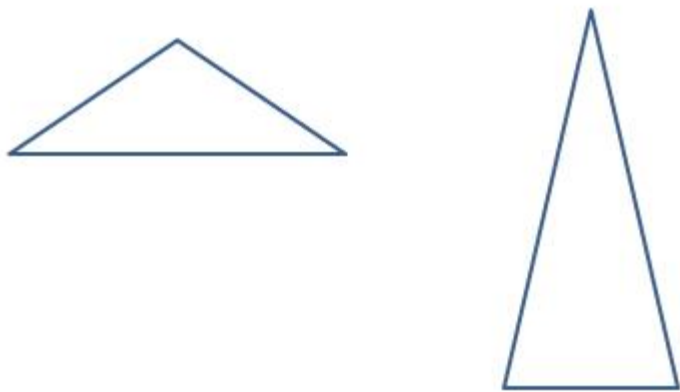
1. Чему равен периметр данного треугольника? Напиши его в миллиметрах.



2. Измерь и запиши периметры треугольников.

МАТЕМАТИКА В ШКОЛЕ

КОНТРОЛЬНЫЕ РАБОТЫ, ЗАДАЧИ, ТЕСТЫ, УРОКИ, РЕПЕТИТОРЫ ...



3. Нарисуй прямоугольный треугольник со сторонами 4 и 5 см. Измерь, чему равна 3-ая сторона треугольника и вычисли его периметр?
4. Нарисуй прямоугольный треугольник со сторонами 6 и 7 см. Измерь, чему равна 3-ая сторона треугольника?
5. Периметр равностороннего треугольника равен 21 см. Чему равны стороны данного треугольника? Напиши длину стороны в мм.