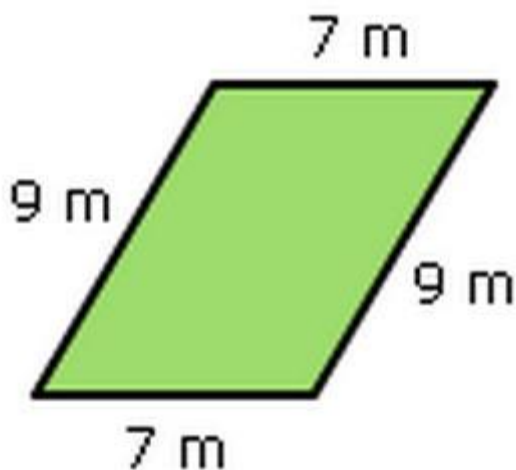


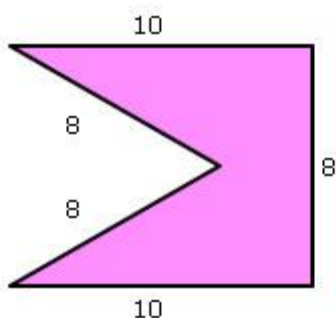
Математика в 3 классе – периметр и площадь прямоугольника и квадрата

Найдите периметры, представленных фигур

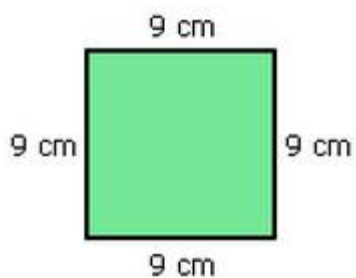
1. Чему равен периметр прямоугольника? Запиши правильный ответ: \_\_\_\_\_



2. Чему равен периметр фигуры? Запиши правильный ответ: \_\_\_\_\_



3. Чему равен периметр квадрата? Запиши правильный ответ: \_\_\_\_\_



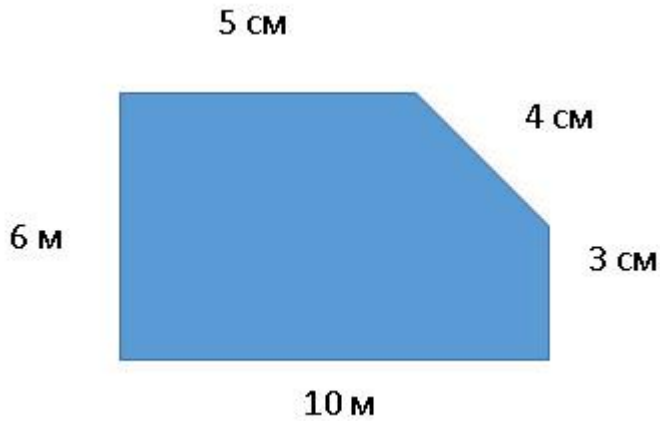
4. Чему равен периметр прямоугольника? Запиши правильный ответ: \_\_\_\_\_

10 см



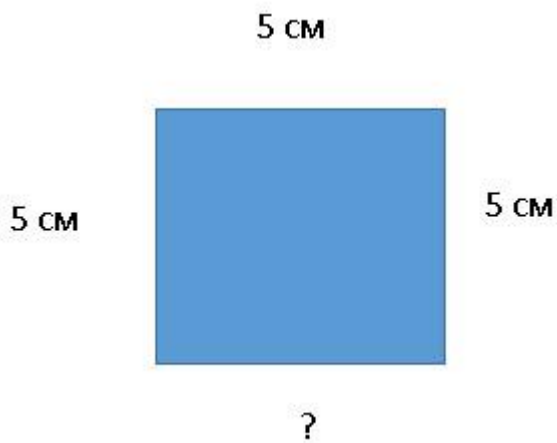
1 см

5. Чему равен периметр фигуры? Запиши правильный ответ: \_\_\_\_\_

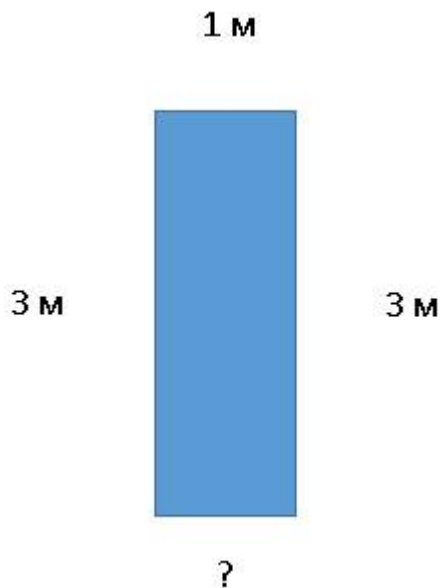


**Найдите неизвестную сторону четырехугольника, если известен периметр фигуры**


1. Найдите сторону, если его периметр равен 20 см.



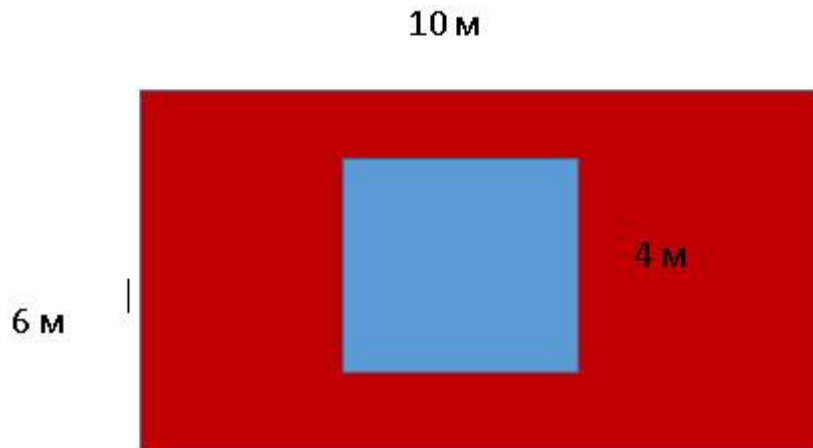
2. Найдите сторону, если его периметр равен 8 м.



3. Найдите сторону, если его периметр равен 70 см.



4. Рассчитайте красную площадь фигуры в см.



### Тестовые задачи на нахождение площади и периметра прямоугольников и квадратов

1. Одна сторона прямоугольника равна 15 дм, другая равна 20 дм. Чему равен периметр прямоугольника?
2. Сторона квадрата равна 3 дм. Чему равен периметр и площадь квадрата?
3. Одна сторона прямоугольника равна 10 дм, другая равна 30 дм. Чему равна площадь прямоугольника?